

**YAKIN DOĞU İLKOKULU**

**2018-2019 DERS YILI**

**5.SINIF II. SEVİYE TESPİTSINAVI**

**9MAYIS 2019**

**Adı-Soyadı:.....Not:.....**

**Sınıf:.....**

**Süre: 90dk.**

**1.OTURUM SORU KİTAPÇIĞI**

**TÜRKÇE- SOSYAL BİLGİLER –FEN VE TEKNOLOJİ**

**GENEL AÇIKLAMA**

1. Bu kitapçık Türkçe – Sosyal Bilgiler - Fen ve Teknoloji sorularını içermektedir. Kitapçık 23 sayfadan oluşmaktadır.
2. Bu test 30 Türkçe, 10 Sosyal Bilgiler ve 10 Fen ve Teknoloji sorusundan oluşmaktadır. (Toplam 50 soru) Tüm soruları yanıtlamanız için size 90 dakikalık süre verilecektir.
3. Her sorunun 4 seçeneği vardır. Doğru yalnız bir tanesidir. Cevap anahtarındaki doğru cevabın harfini kurşun kalemle iyice karalayınız.
4. Bir soruda birden çok seçenek karalanırsa o soru yanlış olarak değerlendirilir.
5. Bilmediğiniz soru üzerinde fazla zaman harcamayınız. Zamanınız kalırsa tekrar dönersiniz.

## TÜRKÇE TESTİ

---

1. Aşağıdaki cümlelerin hangisinde “doldurmak” sözcüğü mecaz anlamda kullanılmıştır?

- A) Rehberlik bölümü her çocuk için ayrı bir form doldurdu.
- B) Seni, benim hakkımda iyi doldurmuşlar.
- C) Okulun daha birinci haftasını doldurmadan sorunlar başladı.
- D) Meslekte yirminci yılını doldurmuştu.

Bilimin, tekniğin ve sanatın amacı, insan hayatını daha rahat, daha mutlu bir düzeye yükseltmektir. Bu amaca, tiyatro ne yoldan hizmet edebilir?

Ünlü bir İngiliz denemecisi diyor ki:

“Hayatın bir örneği olan sahnede, aktörler, insanlığa ayna olurlar. Biz, kendimizi onlarda görürüz. Onlar, bize ne olduğumuzu, ne olmak istediğimizi, ne olmaktan korktuğumuzu gösterirler. Tiyatrosu olan bir memlekette kötülükler, hatalar sürüp gitmez.”

2. Yukarıdaki parçada geçen “Aktörler insanlığa ayna olurlar” ifadesiyle ne anlatılmak isteniyor?

- A) Yaşamın tüm ayrıntılarının gösterilmesini.
- B) Düşünce ve isteklerimizin gösterilmesini.
- C) Sahnelerde gösterişli dekorlarla rol yapılmasını.
- D) Her sahnede aynaların bulunmasını.

## TÜRKÇE TESTİ

3. Aşağıdaki cümlelerin hangisinde “birşeyi olduğundan daha çok göstermek” anlamına gelen bir deyim kullanılmıştır?

- A) İpe sapa gelmez sözler kullanarak herkesi kızdırdı.
- B) Herşeyi ince eleyip sık dokuyan biriydi.
- C) Ahmet, olayları bire bin katarak anlatıyordu.
- D) Suçlu olduğu yüzünün renginden belliydi.

4.

- 1-Okuduğu tarife göre malzemeleri doğrayıp hazırladı.
- 2-Pişirdiği yemeği tabaklara koydu ve her zamanki gibi annesinin ona yemek yaptığı günleri hatırladı.
- 3-Doğradığı malzemeleri tarife göre tencereye koyup, pişirdi.
- 4-Yemeğin nasıl yapıldığını hatırlamak için kendisine hediye getirilen “yemek tarifleri” kitabını açtı.

Yukarıdaki cümlelerden anlamlı bir paragraf oluşturmak için hangi sıralama doğru olur?

- A) 4-1-3-2
- B) 1-4-3-2
- C) 1-4-2-3
- D) 4-2-1-3

5. “Dost kara günde belli olur.” atasözünün anlamı aşağıdaki seçeneklerden hangisinde doğru verilmiştir?

- A) Dostluk zor kazanılır ama kolay kaybedilir.
- B) Gerçek dostlar insanın kötü günlerinde yanında bulunanlardır.
- C) İnsanlar dostlarını kara günlerde seçmelidirler.
- D) Bazı insanlar karalar bağlayarak dostluklarına zarar verirler.

## TÜRKÇE TESTİ

Bu sabah kendinize enfes bir kahvaltı hazırlayın. Ne yapın biliyor musunuz?

Yayvan bir kabın içine sızma zeytinyağı dökün. Üzerine biraz kekik ve pul biber serpin. Sonra ekmeği kızartın, yanına hellimi de katık ederek ekmeğinizi banıpbanıp afiyetle yiyin. İnanın bayılacaksınız. Eğer siz de benim gibi zeytinyağını kaldıramıyorsanız, gerçek zeytinyağı tutkunlarını kızdırmayı göze alarak içine birkaç damla limon damlatabilirsiniz. O kadarcık hilenin zararı olmaz...

6. Yukarıdaki parçaya göre zeytinyağı tutkunlarını kızdıran durum nedir?

- A) Ekmeği kızartıp üzerine zeytinyağı dökmek.
- B) Zeytinyağına ekmeği banarak yemek.
- C) Zeytinyağına limon damlatmak.
- D) Zeytinyağına kekik ve pul biber serpmek.

7. Aşağıdaki cümlelerin hangisinde neden-sonuç ilişkisi yoktur?

- A) Düşündüklerimi uygulamak için çalışıyorum.
- B) Onu iyi dinlemediğim için söylediklerini anlamadım.
- C) Yeterince okumadığı için güzel konuşamaz.
- D) Dengeli beslenmediği için çok zayıfladı.

## TÜRKÇE TESTİ

---

8. “Ahmet’in çalışma planı benim hiç aklıma yatmadı.”

Yukarıdaki cümlede görülen ses olayları aşağıdakilerden hangisinde yoktur?

- A) Dünkü maçta Beşiktaş oyuncusunun burnu kırılmış.
- B) Kemal, harçlığını çıkarmak için tatillerde çalışıyordu.
- C) Konuşmacı o kadar güzel konuşuyordu ki herkes ağzı açık onu dinliyordu.
- D) Herkesin arabasının plaka numarasını ezberleyerek boşuna zihnini yoruyorsun.

9. Aşağıdaki cümlelerde altı çizilmiş olan sözcüklerden hangisinde ünsüz benzeşmesi kuralı vardır?

- A) Açık pazardan aldığım sepetin sapı kusurlu çıktı.
- B) İşimizi dörde doğru bitirmiş olacağız.
- C) Malya’daki üzüm bağlarının çoğu kurutulmuş.
- D) Yolunu şaşırان yavru köpek balığı sahile vurdu.

10. Aşağıdaki cümlelerin hangisinde “belirtili isim tamlaması” vardır?

- A) Atları kurtarmak için hızlı adımlarla ahıra girdi.
- B) Annem bu akşam bize tarhana çorbası yapacak.
- C) Bu davranışla onun son arzusunu yerine getirmiş oldum.
- D) Şimdi karşımda kırk beş yaşında ve iyi kalpli bir insan var.

## TÜRKÇE TESTİ

---

### DERS DİNLEYEN TAVŞAN

Şu tavşanları doğrusu,  
O kadar çok seviyorum.  
Yürürken ön izlerini,  
Bozmuyor arka izleri.

Bir insan görseler  
Öğretmen sanıyorlar onu,  
Ve hemen kulaklarını dikerek,  
Çalışkan bir öğrenci gibi,  
Dinliyorlar.

**11. Yukarıdaki şiirde şairin tavşanları çok sevmesinin nedeni nedir?**

A)Tavşanların sıraya girip arka arkaya yürümeleri.

B)Tavşanların zıplayarak yürümeleri.

C)Tavşanların birbirlerinin izlerini takip etmelerini.

D)Tavşanların arka ayaklarıyla ön ayak izlerine basmalarını.

**12.Aşağıdaki cümlelerin hangisinde “o” sözcüğü zamir olarak kullanılmıştır?**

A) Sonuçta sen de o hareketi yapmamalıydın.

B) O bir zamanlar buranın en zengin adamıydı.

C) Caddedeki o kalabalıkta birinin bayıldığını farkettim.

D) Mercedes o modelin yapımını çoktan durdurmuş.

## TÜRKÇE TESTİ

13.

- 1- Yeni taşınan komşularımızın perdeleriyle koltuklarının rengi hiç tutmamış.
- 2- Sınıfımızın duvarına asılan perdeye el baskısı yapacağız.
- 3- Oyunun ikinci perdesini çok beğendim.
- 4- Bana anlattıklarından sonra gözümdeki perde kalktı, artık herşeyi daha iyi anlıyorum.

**Yukarıdaki numaralandırılmış olarak verilen cümlelerde geçen “Perde” sözcüğünün anlam özellikleri hangi seçenekte sırasıyla verilmiştir?**

- A) Gerçek anlam-gerçek anlam-terim anlamı-mecaz anlamı.
- B) Gerçek anlam-terim anlamı-gerçek anlam-mecaz anlamı.
- C) Gerçek anlam-terim anlamı-terim anlamı-mecaz anlam.
- D) Gerçek anlam-mecaz anlam-terim anlamı-gerçek anlam.

**14. Aşağıdaki cümlelerin hangisinde zıt anlamlı kelimeler bir arada kullanılmıştır ?**

- A) Yalan, yanlış sözlerle herkesi yanıltmaya çalışıyordu.
- B) Burası çok havasız kalmış; kapıyı, pencereyi açıp havalandırmak gerekiyor.
- C) Alıcı, satıcının söylediği fiyatı hemen kabul etti.
- D) “Olmak ya da olmamak” işte bütün mesele bu...

Günün ilk ışıklarıyla birlikte sesler çoğalmaya başladı. Derken her yanı bir gürültü sardı. Bu olağan dışı bir gürültüydü. Çocuk, korku içinde yatağından fırladı. Pencereye koştu. Camı açtı, dışarıya baktı. Sokağa doğru kocaman bir greyder geliyordu. O zaman anımsadı. Karşıdaki arsada

## TÜRKÇE TESTİ

**15. Çocuk zeytin ağacının kesileceğine neden üzülüyor?**

- A) Top oynadıkları kaleleri yıkılacağı için.
- B) Güneşten yandıklarında ağacın gölgesine sığınamayacakları için.
- C) Ağacın zeytinlerini toplayıp yiyemeyecekleri için.
- D) Zeytin ağacına çıkıp üzerinde oynayamayacakları için.

**16. “Saatin zilini beklemeden kalktı, hemen giyindi, hızla sokağa çıktı ve koşarak otobüse yetişti.”**

**Yukarıdaki cümlede hangi kelimeler eylem bildirmektedir?**

- A) Zili – kalktı – hemen-yetişti
- B) Saatin – hemen – sokağa-çıktı
- C) Kalktı – koşarak – otobüse-yetişti
- D) Kalktı – giyindi – çıktı-yetişti

**17. Aşağıdaki cümlelerin hangisinde niteleme sıfatı kullanılmıştır?**

- A) Bazı geceler çok yorulduğum için erken yatarım.
- B) Uzun yaz akşamlarında bahçede oturmayı çok seviyorum.
- C) Her çocuğun sevgiye ve ilgiye ihtiyacı vardır.
- D) Birtakım insanlar trafik kurallarına uymuyor.

**“Şimdi ben gençlere bakıyorum; aralarında şüphesiz çok iyi olanlar var; ama öyleleri de var ki, kendilerinin birşey öğrenmelerine yarayacak en kıymetli zamanlarını, tıpkı mirasyedinin paralarını düşüncesizce sağa sola savurması gibi harcayıp duruyorlar. Gerçi harcanan para tekrar kazanılıp**



## TÜRKÇE TESTİ

---

18. Yukarıdaki parçanın ana düşüncesi nedir?

- A) Gençler zamanın kıymetini bilmeli ve onu boşa harcamamalıdır.
- B) Gençler çok savurgandırlar.
- C) Zamanını boşa harcadın mı bir daha geri gelmez.
- D) Zaman çok kıymetlidir.

19."Emeklilikte, öğretmenlik hayatımda biriktirdiğim anılarımı yazacağım."

Yukarıdaki cümledeki yüklemın zamanı ve kişisi hangi seçenekte doğru olarak verilmiştir?

- A) Gelecek zaman –I. çoğul kişi
- B) Şimdiki zaman –I. tekil kişi
- C) Geniş zaman – II. tekil kişi
- D) Gelecek zaman – I. tekil kişi

---

### KAR YAĞMIŞ

Bu gece yine kar yağmış, ne güzel!  
Bembeyaz olmuş bahçeler, yollar.  
Sanki yerlere serilmiş bulutlar  
Bir gecede ihtiyarlamış heykel

(Aşağıdaki 2 soru yukarıdaki parça ile ilgilidir.)

**20. Ağaçların çiçek açmış gibi görünmesinin sebebi nedir?**

- A) Ağaçların beyaz beyaz çiçek açması.
- B) Ağaçların üzerinde biriken karların çiçek gibi görünmesi
- C) Ağaçların ışık altında bembeyaz görünmesi.
- D) Çiçek açan ağaçların üzerine kar yağması.

**21. Şiire göre, bulutların yere serilmiş gibi görünmesinin sebebi nedir?**

- A) Ay ışığında karlı yolların aydınlık görülmesi.
- B) Bulutların bembeyaz görülmesi.
- C) Gece yağın karın, yerde bulut kümeleri gibi görünmesi.
- D) Bulutların yere inmiş gibi görünmesi.

**22. Aşağıdaki cümlelerden hangisinin öznesi çoğuldur?**

---

## TÜRKÇE TESTİ

---

- A) İpar doğum gününde bütün arkadaşlarını evinde ağırladı.
- B) Konserin sonunda sahneye çıkan sanatçı yanık sesiyle seyircileri ağılattı.
- C) ArkadaşlarımlaYenicami – Çetinkaya takımları arasında oynanan futbol maçına gittik.
- D) Yaşlılara da, çocuklara da nasıl davranılması gerektiğini öğrenmelisin.

**23. Aşağıdaki cümlelerin hangisinde hem basit, hem türemiş, hem de bileşik sözcük vardır?**

- A) Annem Cumartesi günü bize kıymalı makarna yapacak.
- B) Ayşe Teyze aklını yemek programlarıyla bozmuş.
- C) Her zaman sana yardım etmeye hazırım.
- D) Geçimini, geceleri taksicilik yaparak sağlıyor.

**24. “Saat kaçta gelecekler (1) Uçak inince bize haber verecekler mi (2) Meraktan ne yapacağımı bilemiyorum (3) Acaba telefonu açık mı (4) Arasam mı onları (5) Onlar neden aramıyor bizi (6)”**

**Yukarıdaki paragrafta numaralandırılmış olan kaç numaralı paranteze soru işareti gelmez?**

- A) 6 numaralıya
- B) 5 numaralıya
- C) 4 numaralıya
- D) 3 numaralıya

## TÜRKÇE TESTİ

25. Aşağıdaki cümlelerin hangisinde yüklemnin kökü sözcük çeşidi bakımından diğerlerinden farklıdır?

- A) Otobüs kimseyi almadan duraktan uzaklaştı.
- B) Atık maddeleri kullanarak ilginç bir eser yapıldı.
- C) Kahveler içildikten sonra herkes sohbete daldı.
- D) Kaza yapan arabanın motor bölümü yandı.

“Çocuklar için evdeki tehlike kaynaklarından biri de sağlık dolabıdır. Her ilacın önce etiketine bakılması, üzerinde etiketi bulunmayan ve kullanılma zamanı geçmiş ilaçların kullanılmaması gerektiğini bilmeyen yoktur. Kontrolsüz alınması tehlike yaratabilecek ilaçlar ile zehirli maddelerin, küçüklerin ulaşamayacağı yerlerde tutulması gerektiğini de herkes bilir. Ama yine de her yıl birçok çocuk, kontrolsüz ilaç kullanmanın kurbanı olmaktadır.”

26. İlaç kullanımında dikkat edilmesi gerekenler sayılırken aşağıda verilenlerden hangisinden söz edilmemiştir?

- A) Zararlı olabilecek ilaçların çocukların ulaşamayacakları yerlerde tutulması.
- B) İlaçlar üzerindeki son kullanma tarihlerine dikkat edilmesi.
- C) Dolapta üzerinde etiketi olmayan ilaçların bulundurulması.
- D) Dolapta çocukların ilgisini çekecek ilaçların bulundurulması.

## TÜRKÇE TESTİ

Hoca'nın Konyalı bir arkadaşı varmış. Ticaretle uğraşan bu adam sık sık Akşehir'e gelir, Hoca'nın evine konuk olur; yer, içer, yatar sonra da kalkar gidermiş. Her ayrılışında da: "Hocam, ben her gelişte seni arıyorum. Sen de Konya'ya gelince beni ara, bir acı kahvemi içersin" dermiş.

Hoca birgün Konya'ya gitmiş. Adamın samimiyetini denemek için onu aramış. "Han köşelerinde yatmaktansa varıp arkadaşşıma gideyim. Hem gönlü hoş olur, hem de ben rahat ederim" diye düşünmüş. Adamın tarif ettiği gibi evi arayıp bulmuş. Kapıyı çalacağı sırada penceredeki perde aralığından dışarı bakan adamın başını görmüş. Hoca, "Arkadaşımı evde buldum" diye sevinmiş. Kapı açılmış, bir kadın dışarı çıkmış.

-Kimi arıyorsunuz?

Hoca:

-Ben Akşehir'den geliyorum. Efendinin yakın arkadaşşıyım... diyecek olmuş.

Hoca'nın bu sözünü yarıda kesmiş kadın:

-Hoş geldiniz, sefalar getirdiniz...Ama efendi yok, bir iş için dışarı çıktı.

Akşama da gelmeyecek.

Bu sözleri duyan Hoca şaşırılmış. Bir pencereye, bir kadının yüzüne bakmış:

-Demek öyle!...Efendi'ye benden selâm söyle, bir daha evden ayrılırken

başını pencerede unutmasın.

**27. Yukarıdaki yazının anafikri nedir?**

- A) Arkadaşlarımızla ilişkilerimizde samimi ve dürüst olmalıyız.
- B) Arkadaşlarımıza verdiğimiz her sözü tutmak gerekmez.
- C) Verilen bir söz mutlaka yerine getirilmelidir.
- D) Samimi olmayan sözlerden ve yalan söylemekten kaçınmalıyız.

## TÜRKÇE TESTİ

**28. Aşağıdaki cümlelerin hangisinde hem sıfat tamlaması hem de isim tamlaması vardır?**

- A) Öğretmenime bir demet gül getirdim.
- B) Böyle çalışkan bir çocukla karşılaşacağım aklımın ucundan geçmezdi.
- C) Madem ki beyazı kirletirsin sen de mavi gömlek giy.
- D) Akşam olunca eve kimimiz yorgun, kimimiz neşeli geliyoruz.

**29. Aşağıdaki cümlelerin hangisinde “balıkçı” sözcüğü ile bir isim tamlaması oluşturulmamıştır?**

- A) Balıkçının oltasına dev bir köpek balığı takılmış.
- B) Balıkçı teknesi fırtınadan ceviz kabuğu gibi sallanıyordu.
- C) Genç balıkçı daha ilk avında fırtınaya yakalandı.
- D) Fırtınalı gecelerde balıkçının karısı çok endişelenirdi.

**30. Aşağıdaki cümlelerin hangisinde özel isim vardır?**

- A) Yaz mevsiminde her yer kupkuru olur.
- B) Pamuk toplamak için tarlaya çok erken gidilir.
- C) Sevgi dolu bir yaşam ortamı yaratmalıyız.
- D) Yağmur ödevlerini erkenden bitirerek oyuna gitti.

**TÜRKÇE TESTİNİZ BİTMİŞTİR.  
YANITLARINIZI KONTROL EDEREK SOSYAL BİLGİLER TESTİNE GEÇİNİZ.**

## SOSYAL BİLGİLER TESTİ

31.( ) KKTC’de yargı görevini bakanlar kurulu yerine getirir.

( ) KKTC’de Cumhurbaşkanı seçilme yaşı 35’tir.

( ) Cumhuriyet meclisi 50 milletvekilinden oluşur.

( ) Ülkemizde yerel seçimler 5 yılda bir yapılır.

Yukarıdaki ifadelerden doğru olanın önüne (D), yanlış olanın önüne (Y) harfi koyarsak aşağıdakilerden hangisi doğru olur?

A)

Y
D
Y
Y

B)

Y
D
D
Y

C)

D
Y
Y
D

D)

Y
Y
D
Y

32. Aşağıda verilen tarihi eserlerden hangisi bulunduğu yer bakımından diğerlerinden farklıdır?

A) Mevlevi Tekkesi

B) Bedesten

C) Venedik Sarayı

D) Venedik Sütunu

## SOSYAL BİLGİLER TESTİ

33. Haklar ve sorumluluklarla ilgili olarak aşağıdaki ifadelerden hangisi yanlıştır?

- A) Ödev yapmak bir hak, okula gitmek sorumluluktur.
- B) Yaşamak hak, toplum kurallarına uymak sorumluluktur.
- C) Bir gruba girmek hak, grup içinde çalışmak sorumluluktur.
- D) Okulun araç ve gereçlerinden yararlanmak hak, okula zamanında gelmek sorumluluktur.

34. "Haritalardaki ayrıntılar, haritanın ölçeğine göre değişir." Buna göre aşağıda ölçekleri verilmiş Kıbrıs haritalarının hangisinin ayrıntısı daha azdır?

- A) 1/10,000
- B) 1/20,000
- C) 1/50,000
- D) 1/100,000

35.



1



2



3



4

Yukarıda görselleri verilen ürünlerin yetiştirildikleri yerlerin adları hangi seçenekte doğru olarak verilmiştir?

	<u>1</u>		<u>2</u>		<u>3</u>		<u>4</u>
A)	Yeşilırmak	–	Mesarya	–	Güzelyurt	-	İskele
B)	Yeşilırmak	–	Girne	–	Güzelyurt	-	İskele
C)	Yeşilırmak	–	Mehmetçik	–	Güzelyurt	-	Lefke
D)	Lefke	–	Mesarya	–	Güzelyurt	-	Doğancı



## SOSYAL BİLGİLER TESTİ

---

36. I. Cumhurbaşkanı devletin başıdır. Bu sıfatla devletin ve toplumun birliğini ve bütünlüğünü temsil eder.

II. Cumhurbaşkanı yargıyı kontrol eder ve vatandaşların adil bir şekilde yargılanmalarını sağlar.

III. Cumhurbaşkanı görevini yürütürken tarafsız davranır.

IV. Cumhurbaşkanı göreviyle ilgili olarak hiçbir kuruma hesap vermek zorunda değildir.

Yukarıda KKTC Cumhurbaşkanı'nın görevleriyle ilgili olarak verilen bilgilerden kaç tanesi doğrudur?

A) 4

B) 3

C) 2

D) 1

37. KKTC'nin dünya haritası üzerindeki yeri aşağıdaki seçeneklerin hangisinde doğru olarak verilmiştir?

A) Ekvatorun güneyinde ve başlangıç meridyeninin batısında yer alır.

B) Ekvatorun batısında ve başlangıç meridyeninin doğusunda yer alır.

C) Ekvatorun kuzeyinde ve başlangıç meridyeninin batısında yer alır.

D) Ekvatorun kuzeyinde ve başlangıç meridyeninin doğusunda yer alır.

38. Aşağıdaki seçeneklerde verilen bilgilerden hangisi sendikanın tanımıdır?

A) Ülkenin sorunlarına çözüm bulmak için kurulmuş bir sivil toplum örgütüdür.

B) Devlet tarafından kurulan bir sivil toplum örgütüdür.

C) İşçi, işveren ve memurların hak ve kazançlarını korumak için kurulan bir sivil toplum örgütüdür.

D) Özel sektörde çalışanlarının hak ve kazançlarını korumak için kurulan bir sivil toplum örgütüdür.

## SOSYAL BİLGİLER TESTİ

39. 1318 yılında katedral olarak açılan ve Osmanlıların Kıbrıs'ı almasından sonra camiye dönüştürülen ve Kıbrıs'ı alan komutanın adı verilen tarihi eserin orijinal adı nedir?

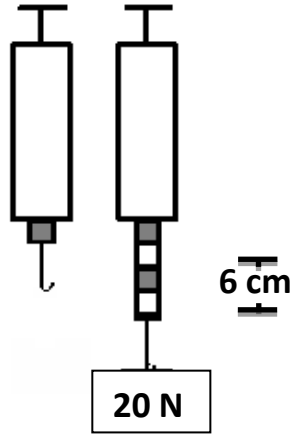
- A) Aziz Sophia Katedrali
- B) Aziz Nikolas Katedrali
- C) Aymamas Katedrali
- D) Lala Mustafa Paşa Katedrali

40. Aşağıdaki ifadelerden hangisi yanlıştır?

- A) Ekonomik faaliyet ihtiyacımız olan ürünlerin üretimi ile tüketimi arasındaki süreçtir.
- B) İthalat; ülkemizde üretmediğimiz ürünlerin başka ülkelerden satın alınmasıdır.
- C) Ülkemizde ürettiğimiz ürünlerin dış ülkelere satılmasına ihracat adı verilir.
- D) İnsanlar ekonomik faaliyetler içerisinde sadece tüketici olarak yer alırlar.

SOSYAL BİLGİLER TESTİNİZ BİTMİŞTİR.  
YANITLARINIZI KONTROL EDEREK FEN VE TEKNOLOJİ TESTİNE GEÇİNİZ.

41.



Şekildeki dinamometre ile 20 N ağırlığındaki bir cisim ölçüldüğünde dinamometrenin yayının 6 cm uzadığı görülüyor. Buna göre 110 N ağırlığındaki başka bir cisim ölçüldüğünde dinamometrenin yayı kaç cm uzar?

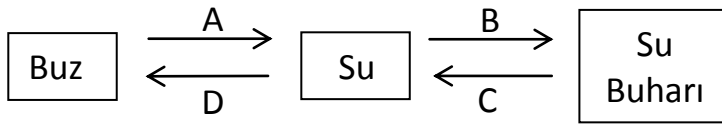
A) 28 cm

B) 30 cm

C) 33 cm

D) 35 cm

42.



Yukarıdaki model suyun hal deęiřtirmesiyle ilgili bir modeldir. Bu modelde

I- A ile gösterilen yerde madde ısı kaybeder.

II- B ile gösterilen yerde madde ısı alır.

III- C ile gösterilen yerde madde ısı kaybeder.

IV- D ile gösterilen yerde madde ısı alır.

Buna göre yukarıda verilenlerden hangileri doğrudur?

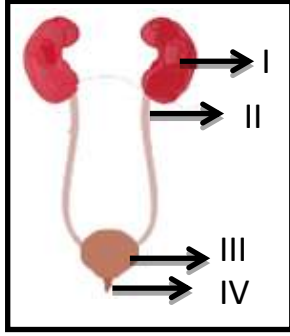
A) I. ve II.

B) II. ve III.

C) III. ve IV.

D) II. ve IV.

43.



Yandaki şekilde bir insanın boşaltım sistemi verilmiştir.

Aşağıdaki seçeneklerde numaraların yanında organ isimleri verilmiştir.

Buna göre hangi seçenekteki eşleştirme doğrudur?

A) I- Böbrek

II- Üreter

III- Sidik Torbası

IV- Üretra

B) I- Böbrek

II- Üretra

III- Sidik Torbası

IV- Üreter

C) I- Böbrek

II- Sidik Torbası

III- Üreter

IV- Üretra

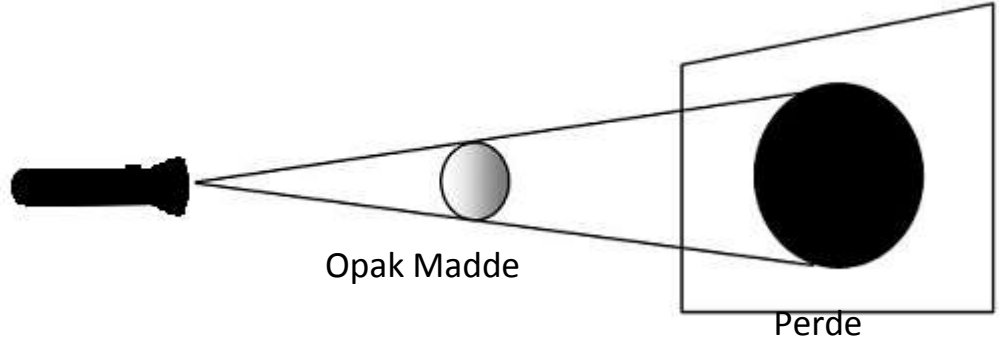
D) I- Üreter

II- Üretra

III- Böbrek

IV- Sidik Torbası

44.



Yukarıdaki düzenekte opak maddenin perdedeki gölgesinin daha büyük görünmesi için ne yapılmalıdır?

A) Daha fazla ışık veren bir ışık kaynağı kullanılmalıdır.

B) Opak madde ile perde yanyana getirilmelidir.

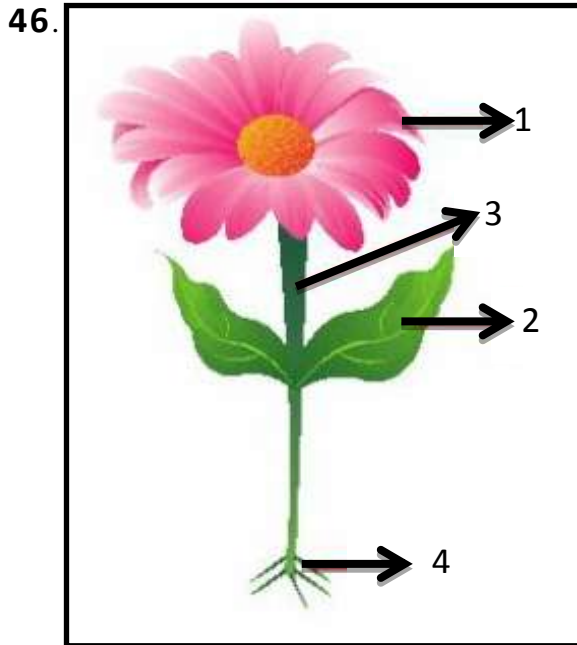
C) Opak madde perdeye doğru yaklaştırılmalıdır.

D) Opak madde ışık kaynağına yaklaştırılmalıdır.

## FEN VE TEKNOLOJİ TESTİ

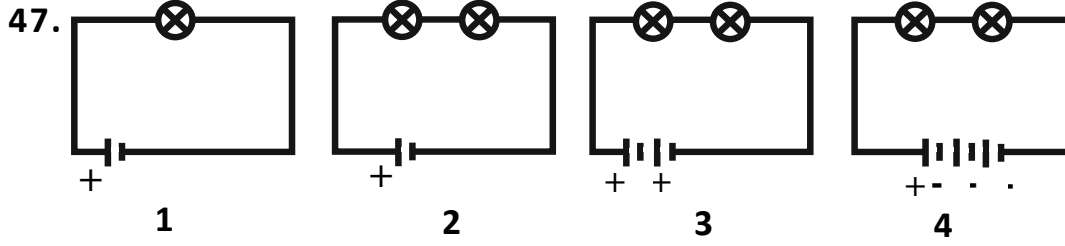
45. Aşağıda besinlerin sindirimi ile ilgili olarak bilgiler verilmiştir. Verilen bu bilgilerden hangisi yanlıştır?

- A) Besinlerin sindirimi sırasında vücudumuzdaki bazı organlar tarafından salgılanan bazı sıvılar sindirimi kolaylaştırır.  
B) Sindirilmiş besinler vücutta kan yoluyla taşınır.  
C) Sindirim sadece midede besinlerin parçalanmasıyla gerçekleşir.  
D) Sindirim ağızda başlar.



Yandaki resimde bir bitkinin bölümleri numaralandırılmıştır. Numaralı olan bu bölümlerin isimleri hangi seçenekte doğru olarak verilmiştir?

<u>1</u>	<u>2</u>	<u>3</u>	<u>4</u>
A) Kök	- Yaprak	- Gövde	- Çiçek
B) Kök	- Gövde	- Yaprak	- Çiçek
C) Çiçek	- Yaprak	- Gövde	- Kök
D) Çiçek	- Gövde	- Yaprak	- Kök



Yukarıdaki elektrik devrelerinde en az parlak ışığı kaç numaralı elektrik devresi verir?

- A) 2 B) 3  
C) 4 D) 1

48. Aşağıda sürtünme kuvvetiyle ilgili olarak bazı bilgiler verilmiştir. Bu verilen bilgilerden hangileridoğrudur?

I- Bir cisim ile yüzey arasındaki hareketi zorlaştıran kuvvet “sürtünme kuvveti” denir.

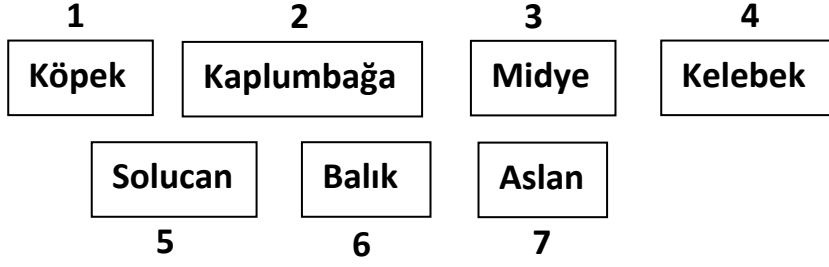
II- Beton bir zemin üzerine halı serilirse sürtünme kuvveti azalır.

III-Gıcırdayan kapı menteşelerini yağlamak sürtünme kuvvetini azaltır.

IV- Sürtünme kuvveti hareketin ters yönündedir.

- A) I – III - IV B) I – II  
C) I – II - IV D) I – II - III - IV

49.



Yukarıdaki numaralandırılmış kutuların içinde yazılmış hayvanlardan kaç tanesi omurgasız hayvanlar grubuna girer?

- A) 1 – 2 - 3                      B) 3 – 6 - 7  
C) 3 – 4 - 5                      D) 1 – 5 - 6

50. Aşağıdaki ifadelerden hangisi çevrenin insanlar tarafından bozulmasının nedenlerinden biri değildir?

- A) Plansız şehirleşme  
B) Geri dönüşüm faaliyetlerinin artırılması  
C) Doğal kaynakların bilinçsiz olarak kullanılması  
D) Nüfus artışı

FEN VE TEKNOLOJİ TESTİNİZ BİTMİŞTİR. YANITLARINIZI KONTROL EDİNİZ.