

2015-2016 DERS YILI

4.SINIF 2. SEVİYE TESPİT SINAVI

06 MAYIS 2016 CUMA

Adı – Soyadı:.....

Not:.....

Sınıf :.....

Süre : 90dk.

2.OTURUM SORU KİTAPÇIĞI

MATEMATİK – İNGİLİZCE

GENEL AÇIKLAMA

1. Bu kitapçık Matematik ve İngilizce sorularını içermektedir. Kitapçık 16 sayfadan oluşmaktadır.
2. Bu test 30 Matematik ve 20 İngilizce sorusundan oluşmaktadır. (Toplam 50 soru) Tüm soruları yanıtlamanız için size 90 dakikalık süre verilecektir.
3. Her sorunun 4 seçeneği vardır. Doğru yalnız bir tanesidir. Doğru cevabın harfini kurşun kalemle iyice karalayınız.
4. Bir soruda iki seçenek karalanırsa o soru yanlış olarak değerlendirilir.
5. Bilmediğiniz soru üzerinde fazla zaman harcamayınız. Zamanınız kalırsa tekrar dönersiniz.

MATEMATİK TESTİ

1. “Dört yüz bin kırk” sayısının rakamlarla yazılışı hangi seçenekte doğru olarak verilmiştir?

- A) 400 040
- B) 40 040
- C) 400 004
- D) 4 000 040

2.



$(2 \times 100) + (5 \times 1) + (6 \times 1000) + (7 \times 100000)$ şeklinde çözümlenmiş sayı kaçtır?

- A) 25 670
- B) 710 205
- C) 706 205
- D) 701 205

3.



4 basamaklı en küçük tek sayıyı yazmak için kaç tane farklı rakam kullanırız?

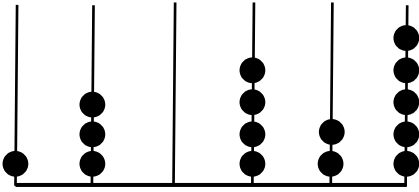
- A) 1
- B) 2
- C) 3
- D) 4

MATEMATİK TESTİ

4. Annesinden 175 lira, babasından 125 lira harçlık alan Hasan tanesi 25 lira olan oyuncaklardan kaç tane alabilir ?

- A) 12
- B) 5
- C) 10
- D) 7

5.



Yukarıdaki abaküste gösterilen sayı ile 4 basamaklı en büyük çift sayının toplamı kaçtır?

- A) 130 425
- B) 140 423
- C) 140 424
- D) 140 422

6. 4'ün 4 fazlasının 4 katı ile 4'ün 4 katının 4 fazlası arasında ne kadar fark vardır?

- A) 32
- B) 20
- C) 12
- D) 8

MATEMATİK TESTİ

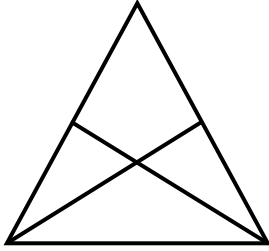
7. “43 596” sayısı ile ilgili olarak aşağıda verilenlerden hangisi doğrudur?

- A) 4'ün basamak değeri 10 000'dir.
- B) 3'ün sayı değeri 3000'dir.
- C) 5'in basamak değeri 500'dür.
- D) 9'un basamak değeri 9'dur.

8. En büyük dar açı ile bir dik açının toplamı kaç derecedir?

- A) 180°
- B) 181°
- C) 189°
- D) 179°

9.



Yandaki şekilde kaç tane üçgen vardır?

- A) 9
- B) 8
- C) 7
- D) 6

10. $4 \times 5 + 3 \times 2 = ?$ İşleminin sonucu hangi seçenektir?

- A) 46
- B) 36
- C) 26
- D) 25

MATEMATİK TESTİ

11. $AAA + AA + A = 246$ olduğuna göre A 'nın sayı değeri kaçtır?

- A) 6
- B) 4
- C) 2
- D) 1

12. Aşağıdaki seçeneklerin hangisinde kesirler küçükten büyüğe, doğru olarak sıralanmıştır?

- A) $\frac{5}{8} < \frac{3}{8} < \frac{6}{8} < \frac{1}{8}$
- B) $\frac{6}{7} < \frac{6}{8} < \frac{6}{9} < \frac{6}{10}$
- C) $\frac{8}{10} < \frac{4}{10} < \frac{5}{10} < \frac{6}{10}$
- D) $\frac{5}{9} < \frac{5}{8} < \frac{5}{7} < \frac{5}{6}$


13.



1.adım



2.adım



3.adım

...

4.adım

...

5.adım

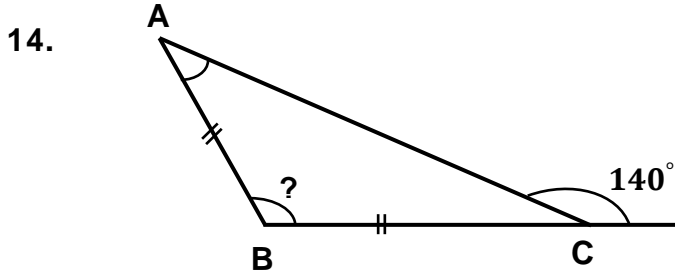
?

6.adım

Yukarıda toplarla oluşturulan örüntüde 6. adımda kaç tane top olmalıdır?

- A) 9
- B) 11
- C) 15
- D) 13

MATEMATİK TESTİ



Yukarıdaki ABC üçgeni bir ikizkenar üçgendir. Bu üçgende C'nin dış açısı 140° dir. Bu üçgende \hat{B} sı kaç derecedir?

- A) 40°
- B) 100°
- C) 80°
- D) 140°

15. Bir bölme işleminde bölen 12, bölüm 58 ise bu işlemde bölünen sayı en fazla kaç olur?

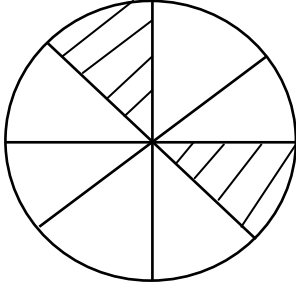
- A) 707
- B) 696
- C) 685
- D) 706

16. $36 + \blacksquare < 7 \times 6$ eşitsizliğinin doğru olması için " \blacksquare " yerine gelebilecek en büyük doğal sayı kaçtır?

- A) 6
- B) 5
- C) 4
- D) 3

MATEMATİK TESTİ

17.



Yandaki şekil eş parçalara ayrılmıştır. Taranmış kısımların şeklin yarısını göstermesi için kaç parçanın daha taranması gerekir?

- A) 5
- B) 4
- C) 3
- D) 2

18. Parasının $\frac{1}{6}$ 'sı 60 lira olan Nevin, kırtasiyeciye gidip fiyatı 290 lira olan bir çanta almıştır. Nevin çantanın parasını ödedikten sonra elinde kaç lirası kalmıştır?

- A) 60
- B) 10
- C) 70
- D) 90

19. $\left(2\frac{1}{2} - 1\frac{2}{8}\right) + 1\frac{3}{16} =$ işleminin sonucu kaçtır?

- A) $2\frac{7}{16}$
- B) $2\frac{2}{8}$
- C) $2\frac{4}{16}$
- D) $2\frac{8}{16}$

MATEMATİK TESTİ

20. $\frac{56}{9} = A \frac{C}{B}$

Yandaki bileşik kesir tamsayılı kesre çevrilince alacağı değerleri A, B, C harfleriyle gösterdik.

Bu durumda $(A + B) - C = ?$ olur.

- A) 17
- B) 16
- C) 15
- D) 13

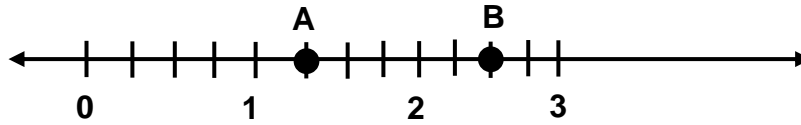
21.



Yandaki saat tam 4'ü gösteriyor. Buna göre akrep ile yelkovan arasındaki ? ile gösterilen küçük açı kaç derecedir?

- A) 30°
- B) 60°
- C) 90°
- D) 120°

22.



Yukarıdaki sayı doğrusunda belirtilen A ve B noktalarının değerleri toplamı kaçtır?

- A) $3\frac{3}{4}$
- B) $2\frac{3}{4}$
- C) $3\frac{1}{4}$
- D) $2\frac{1}{4}$

MATEMATİK TESTİ

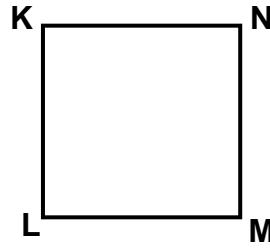
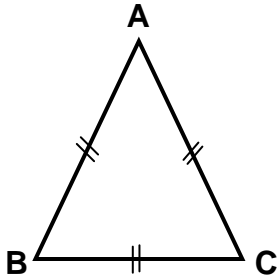
23. Hafta sonu köyünde yapılacak Eko-gün için hellimli - zeytinli yapıp satmayı düşünen Ayşe teyze, 60 kg ağırlığında bir çuval un alıp, bunun $\frac{3}{4}$ 'ünü hellimli, geriye kalanını da zeytinli yapmak istiyor. Ayşe teyze kaç kg undan zeytinli yapmıştır?

- A) 15 kg
- B) 12 kg
- C) 45 kg
- D) 30 kg

24. Kenar uzunlukları 7 cm, 9 cm ve 8 cm olan bir üçgen için aşağıda verilenlerden hangisi doğrudur?

- A) Eşkenar üçgendir
- B) İkizkenar üçgendir.
- C) Çeşitkenar üçgendir.
- D) Dik açılı ikizkenar üçgendir.

25.



Yukarıda ABC eşkenar üçgen ve KLMN bir karedir ve çevre uzunlukları eşittir. Eşkenar üçgenin bir kenarı 8 cm ise karenin bir kenarı kaç cm'dir?

- A) 24 cm
- B) 8 cm
- C) 6 cm
- D) 7 cm

MATEMATİK TESTİ


26.

6, 0, 2, 5, 8

Yukarıda verilen rakamları kullanarak yazabileceğimiz 5 basamaklı en küçük sayının onlar basamağında hangi rakam olur?

- A) 2
- B) 6
- C) 8
- D) 5

27.



ABCD dikdörtgenin uzun kenarı 12 cm, kısa kenarı da uzun kenarın yarısı kadardır. Bu dikdörtgenin çevresi kaç cm'dir?

- A) 24
- B) 36
- C) 18
- D) 30

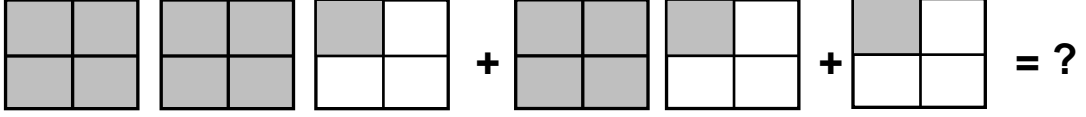
28. Haftalık harçlığının $\frac{3}{8}$ 'ini harcayan Özer'in elinde 20 lirası kalmıştır.

Özer'in toplam haftalık harçlığı kaç liradır?

- A) 25
- B) 12
- C) 30
- D) 32

MATEMATİK TESTİ

29.



Yukarıdaki toplama işleminin sonucu kaçtır?

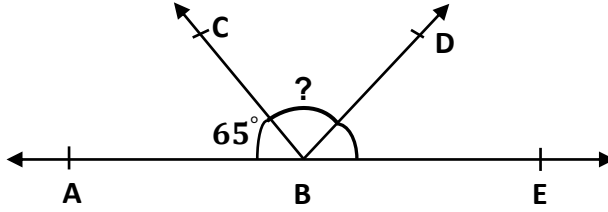
A) $3\frac{3}{4}$

B) $3\frac{1}{2}$

C) $2\frac{2}{4}$

D) $2\frac{3}{4}$

30.



Yukarıda $\widehat{ABC} = 65^\circ$ 'dir ve \widehat{DBE} açısının ölçüsüyle eşittir. Buna göre $\widehat{CBD} =$ kaç olur?

A) 65°

B) 50°

C) 60°

D) 55°

MATEMATİK TESTİNİZ BİTMİŞTİR YANITLARINIZI KONTROL EDEREK
İNGİLİZCE TESTİNE GEÇİNİZ.

MATEMATİK TESTİ

Choose the correct answer: a, b, c or d.

31. I never go to school _____ Sundays.

- A) at
- B) in
- C) on
- D) between

32. My mum likes _____.

- A) cooking
- B) cooked
- C) cooks
- D) cook

33. My grandparents live near the sea. _____ swim every day.

- A) She
- B) He
- C) They
- D) We



34. My bicycle is not new. It is _____.

- A) young
- B) expensive.
- C) small
- D) old

MATEMATİK TESTİ

35. My sister and I _____ listening to the radio. We are _____ a film on TV.

- A) are / watch
- B) aren't / watching
- C) am / watch
- D) am not / watching

36. A: Where is the teacher?

B: She's _____

- A) reading a book.
- B) in the classroom.
- C) tall and thin.
- D) MrS Brown.

37. A: Whose umbrella is this?

B: It's my _____

- A) friend.
- B) friends.
- C) friendly.
- D) friend's.

38. _____ money have you got?

- A) How many
- B) How is
- C) How much
- D) How



MATEMATİK TESTİ

39. March is the _____ month of the year.

- A) fifth
- B) third
- C) second
- D) fourth

40. A: What _____ you do yesterday?

B: We _____ football in the park.

- A) did / play
- B) do / plays
- C) did / played
- D) does / playing



41. A tree is _____ than a flower.

- A) small
- B) bigger
- C) biggest
- D) smaller

42. A: Can I _____ my shorts today?

B: No, you _____. It's cold.

- A) wearing / can't
- B) wear / can
- C) wears / can't
- D) wear / can't



MATEMATİK TESTİ

43. My mum _____ in the garden at the moment.

- A) is
- B) s
- C) was
- D) are

44. My dad _____ long hair when he was a boy, but now it _____ short.

- A) had / is
- B) has / is
- C) having / are
- D) have / am

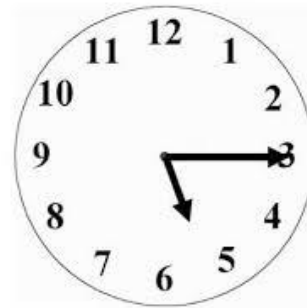
45. There _____ two cats in the garden last night.

- A) is
- B) was
- C) are
- D) were

46. A: What's the time?

B: It's _____ .

- A) five o'clock
- B) quarter to five
- C) quarter past five
- D) half past three



MATEMATİK TESTİ

47. Mum: Would you like _____ chicken for dinner?

Gülten: No, thanks. I don't like chicken.

- A) two
- B) some
- C) any
- D) an

48. A: _____ do you watch TV?

B: In my bedroom.

- A) When
- B) Why
- C) What
- D) Where

49. A: _____ is the woman in the picture?

B: It's my grandmother .

- A) Who
- B) Whose
- C) Where
- D) When

50. Thursday comes after _____ .

- A) Wednesday
- B) Sunday
- C) Friday
- D) Saturday

İNGİLİZCE TESTİNİZ BİTMİŞTİR YANITLARINIZI KONTROL EDİNİZ.