



İsim:.....Soyisim:.....Sınıf:.....Tarih:.....

MATEMATİK

☺TEKRAR EDELİM☺

1)Aşağıdaki bulutların içindeki karışık verilen işlemleri yapınız.

$$4+2=6$$

$$3-3=0$$

$$7+3=10$$



$$8+1=9$$

$$5-0=5$$

$$3+5=8$$



$$10-0=10$$

$$6+2=8$$

$$8-4=4$$

2) Aşağıdaki işleme göre  kaç olur?

$$8 + \triangle = 10$$

3) Buse, yandaki güler yüzleri bir desteye tamamlamak istiyor. O halde Buse' nin kaç tane daha güler yüz çizmesi gerekmektedir?



1 deste = 10 tane güler yüz









4 tane güler yüzüm var, 10 ' a tamamlamak için;

$$4 + \boxed{6} = 10 \text{ (4 kaç ister 10 olsun ?)}$$

→ 6 tane daha güler yüz çizmesi gerekir.



4) Onluk ve birlikleri verilen sayılar ile örnekteki gibi eşleştiriniz.

2 onluk	3 birlik			47
1 onluk	9 birlik			23
4 onluk	7 birlik			19
5 onluk	0 birlik			50