



İsim:.....Soyisim:.....Sınıf:.....Tarih:.....

MATEMATİK TEKSİRİ



Mini Mini Sorular ...


1- 7'nin 2 **fazlası** ...9.. dur. **$7+2=9$**

2- Otobüsteki 9 yolcunun 5'i **indi**. Otobüste ...4... tane yolcu kaldı.


$9-5=4$



4- **Çiftlik hayvanı** olanları seç, **toplam** kaç ayakları var yaz.



x



x

cevap: **$4+2=6$**

5- $2 + 4 + \boxed{2} = 8 \longrightarrow \boxed{2} = ?$

6- Önceki, sonraki ve aradaki sayıları bulalım.

a) 18, 19

b) 30, 31

c) 26, 27, 28

d) 39, 40

e) 19, 20, 21, 22, 23, 24, 25, 26, 27, 28, 29, 30

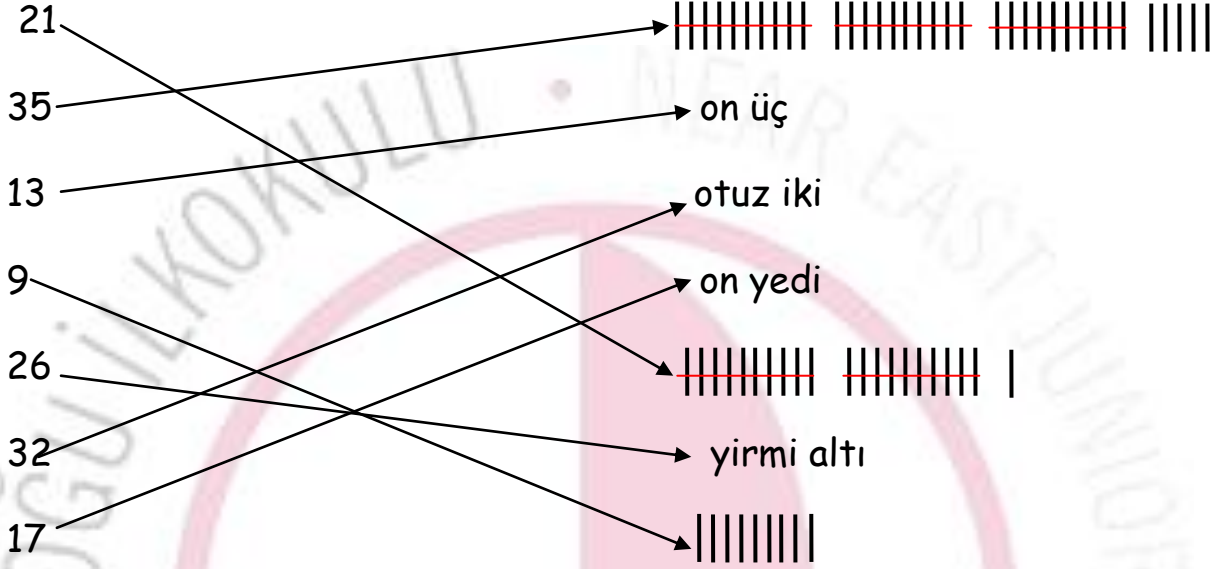
7- Sayıları **deste** ile gösterelim.

25: ||||| ||||| |||||

13: ||||| |||

30: ||||| ||||| |||||

8- Sayıları yazılışları ve deste ile gösterişleri ile eşleştir.



9- Sayıları onluk ve birliklerine ayıralım.

11: 1 onluk + 1 birlik

24: 2 onluk + 4 birlik

38: 3 onluk + 8 birlik

20: 2 onluk + 0 birlik

5: 0 onluk + 5 birlik



YAKIN DOĞU İLKOKULU • NEAR EAST JUNIOR COLLEGE

