

YAKIN DOĞU İLKOKULU

2015-2016 DERS YILI

5.SINIF 3.BURS SIRALAMA VE SEVİYE TESPİT SINAVI

18 MAYIS 2016 ÇARŞAMBA

Adı – Soyadı:.....

Not:.....

Sınıf :.....

Süre : 90dk.

2.OTURUM SORU KİTAPCIĞI
MATEMATİK - İNGİLİZCE

GENEL AÇIKLAMA

1. Bu kitapçık Matematik - İngilizce sorularını içermektedir. Kitapçık 21 sayfadan oluşmaktadır.
2. Dağıtılan cevap kağıdının üzerinde adınız, soyadınız, sınıfınız yazılmış ve kod numaranız kotlanmıştır. Kağıdın size ait olup olmadığını kontrol ediniz.
3. Bu test 30 Matematik, 20 İngilizce sorusundan oluşmaktadır. (Toplam 50 soru) Tüm soruları yanıtlamanız için size 90 dakikalık süre verilecektir.
4. Her sorunun 4 seçeneği vardır. Doğru yalnız bir tanesidir. Doğru cevabın harfini kurşun kalemle iyice karalayınız. Karalarken daire dışına çıkmayınız.
5. Bir soruda iki seçenek karalanırsa o soru yanlış olarak değerlendirilir.
6. Cevap kağıdını karalamayınız, kirletmeyiniz ve üzerine birşey yazmayınız.
7. Bilmediğiniz soru üzerinde fazla zaman harcamayınız. Zamanınız kalırsa tekrar dönersiniz.
8. Cevabınızı değiştirmek isterseniz, sileceğiniz cevabı kaliteli bir silgi ile dikkatlice siliniz.

MATEMATİK TESTİ

SORU 1. Aşağıdaki sayılardan hangisi beş milyon elli bin beş yüzden küçüktür?

- A) 5 050 500
- B) 5 500 050
- C) 5 005 555
- D) 5 050 505

SORU 2.

2 020 202

2 022 002

2 002 202

2 200 022

Yukarıdaki kartlar üzerinde yazılı dört tane doğal sayı görüyorsunuz. Tezer öğretmen bu kartlar arasından üzerinde en büyük ve en küçük doğal sayının yazılı olduğu kartları alıyor. Buna göre geriye kalan iki kart aşağıdakilerden hangisidir ?

- A) 2 200 022 2 020 202
- B) 2 022 002 2 002 202
- C) 2,020 202 2 022 002
- D) 2,002 202 2 200 022

MATEMATİK TESTİ

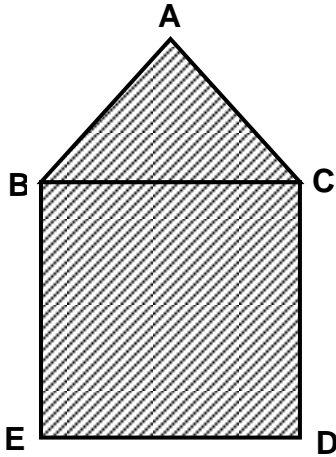
SORU 3.

$$\begin{array}{r} 58\ 502 \\ 37\ 108 \\ + 67\ 450 \\ \hline \end{array}$$

Nalan Öğretmen yukarıdaki toplama işlemini tahmini olarak yapmak istemektedir. Bunun için sayıları en yakın binliğe yuvarlayarak işlemi yapmıştır. Buna göre aşağıdaki ifadelerden hangisi doğrudur?

- A) Gerçek sonuç tahmini sonuçtan 60 daha fazladır.
- B) Tahmini sonuç gerçek sonuçtan 60 daha fazladır.
- C) Gerçek sonuç tahmini sonuçtan 960 fazladır.
- D) Gerçek sonuç 163 000'dir.

SORU 4.



Yukarıdaki şekilde ABC bir eşkenar üçgen ve BCDE de bir karedir. Bu şeklin çevresi 60 cm dir. Buna göre aşağıdakilerden hangisi yanlıştır?

- A) Karenin alanı 225 cm^2
- B) Üçgenin çevresi 36 cm dir.
- C) Karenin çevresi 48 cm dir.
- D) [BC] kenarının uzunluğu 12 cm dir.

MATEMATİK TESTİ

SORU 5.

$$4^2 + \triangle = 8^2$$

$$\triangle - \square = 2^3$$

$$\square + \diamond = 5^3$$

Yukarıdaki işlemlere göre $\triangle + \square + \diamond$ işleminin sonucu kaçtır?

- A) 173
- B) 133
- C) 175
- D) 23

SORU 6.

1. $\%45 = \frac{9}{20} = 0.45$

2. $\frac{72}{120} = \frac{3}{5} = \%60$

3. $0.2 = \frac{1}{5} = \%20$

4. $\frac{2}{10} > 0.5 > \%25$

Yukarıda verilenlerden kaç tanesi doğrudur?

- A) 3
- B) 4
- C) 5
- D) 2

MATEMATİK TESTİ

SORU 7. Ada, babasının verdiği haftalık harçlığının $\frac{5}{8}$ 'ini harcamakta kalan kısmını da kumbarasına atmaktadır. Ada, 8 haftada 240 TL biriktirmiştir. Buna göre Ada'nın haftalık harçlığı kaç TL'dir?

- A) 80 TL
- B) 384 TL
- C) 48 TL
- D) 640 TL

SORU 8.

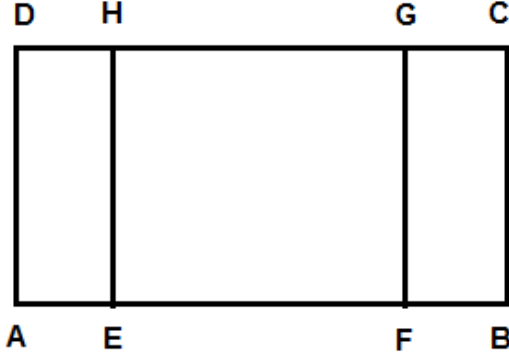
	Türkçe	Matematik	Fen	S. Bilgiler
Pazartesi	••	•••	••	•
Salı	•••	••	•••	••
Çarşamba	••	•	••	•
Perşembe		••		•••
Cuma	••		•••	•
Cumartesi	••	••	••	••
Pazar	•••	••	•••	•••

Yukarıdaki tabloda sınava hazırlanan Dervişe'nin günlere ve derslere göre çözdüğü soru sayıları verilmiştir. Her (•) on soruyu göstermektedir buna göre aşağıdaki ifadelerden hangisi yanlıştır?

- A) Dervişe en çok soruyu pazar günü en az soruyu ise perşembe günü çözmüştür.
- B) Pazartesi ve cumartesi günleri aynı sayıda soru çözmüştür.
- C) En fazla soruyu Fen Bilgisi dersinden çözmüştür.
- D) Öğrenci bir haftada toplam 440 soru çözmüştür.

MATEMATİK TESTİ

SORU 9.



Yukarıdaki şekilde ABCD bir dikdörtgendir. Bu dikdörtgenin uzun kenarı kısa kenarının 2 katı uzunluğundadır. EFGH bir karedir ve alanı 81 cm^2 dir. Bu duruma göre ABCD dikdörtgeninin alanı kaç cm^2 olur?

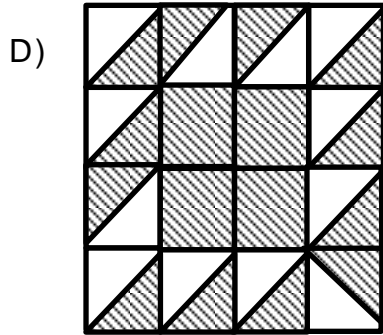

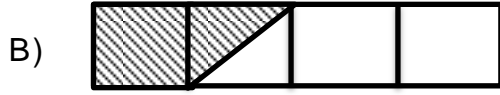
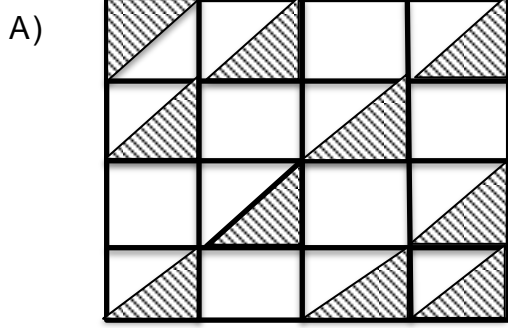
- A) 162 cm^2
- B) 172 cm^2
- C) 54 cm^2
- D) 72 cm^2

SORU 10. Nehir doğduğunda annesi 35 yaşında idi. Nehir'in annesi dedesinden 27 yaş küçüktür. Nehir şimdi 10 yaşında olduğuna göre üçünün yaşlarının toplamı kaçtır?

- A) 137
- B) 117
- C) 107
- D) 127

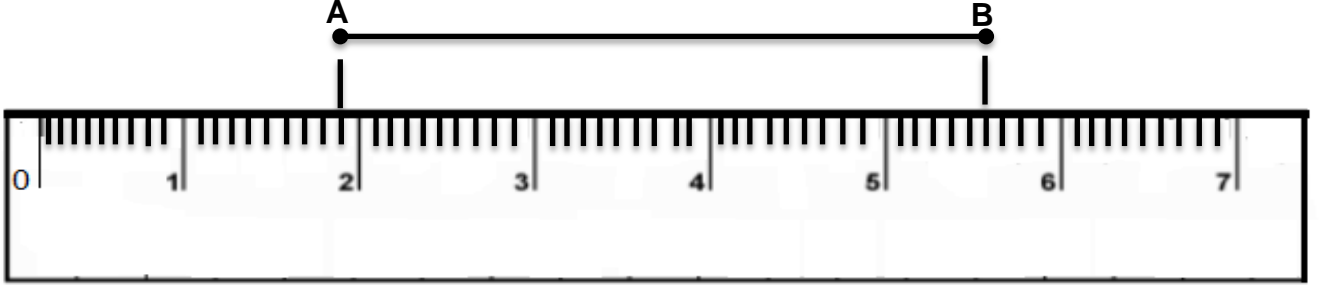
MATEMATİK TESTİ

SORU 11. Aşağıdaki şekillerde verilen karalanmış yerlerden hangisi $\frac{10}{16}$ kesrine denktir?



MATEMATİK TESTİ

SORU 12.



Yukarıdaki ölçümün sonucu aşağıdakilerden hangisidir?

- A) 5.6 cm
- B) 5.7 cm
- C) 4.7 cm
- D) 3.7 cm

SORU 13. Dört öğrenci, İzzet öğretmenin verdiği bir problemi aşağıdaki tabloda gösterilen sürelerde çözmüşlerdir?

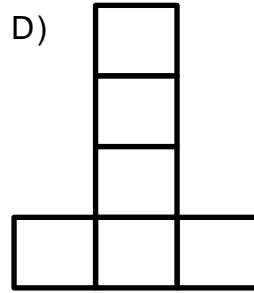
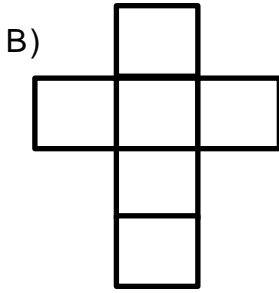
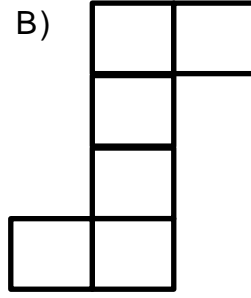
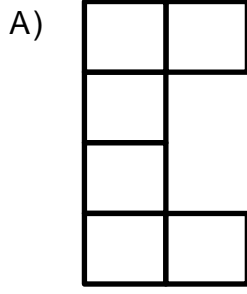
Öğrenciler	Çözme Süreleri
Kaan Kutsay	9.73Sn
Mahmut Sertoğlu	9.81Sn
Emre Kılıçoğulları	9.69Sn
Yücel Gülsevener	9.79Sn

Buna göre problemi birinci bitiren öğrenci aşağıdakilerden hangisidir?

- A) Emre Kılıçoğulları
- B) Mahmut Sertoğlu
- C) Kaan Kutsay
- D) Yücel Gülsevener

İNGİLİZCE TESTİ

SORU 14. Aşağıdaki şekillerden hangisi bir küpün açılımı olamaz?

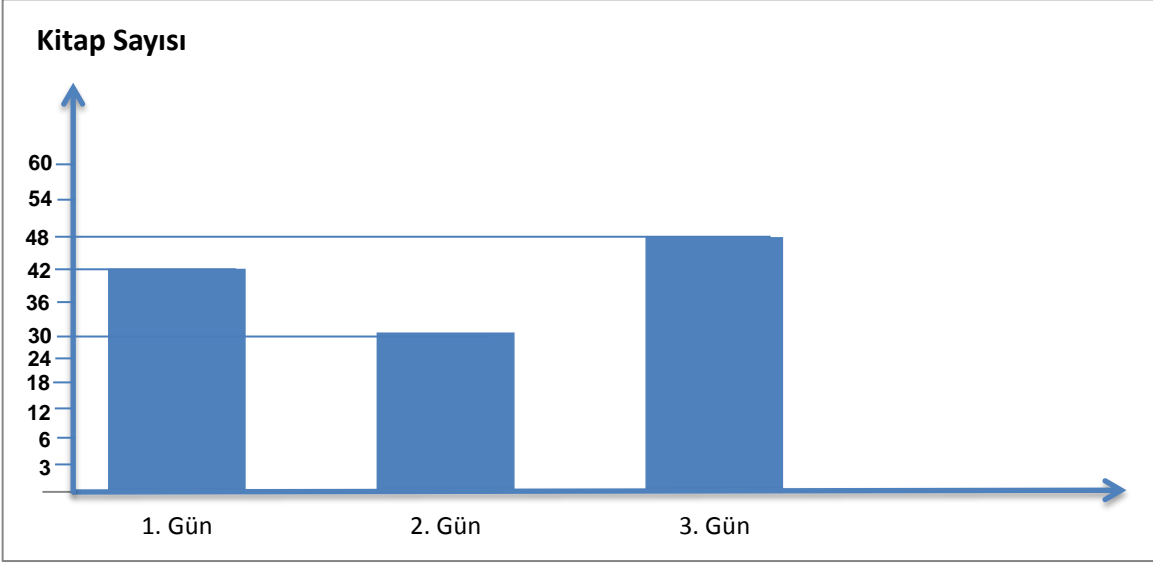


SORU 15. Her parçanın uzunluğu bir önceki parçadan 4 cm fazla olacak şekilde 3 parçaya bölünen 108 cm uzunluğundaki bir ipin en büyük parçası kaç cm olur?

- A) 40 cm
- B) 36 cm
- C) 32 cm
- D) 44 cm

İNGİLİZCE TESTİ

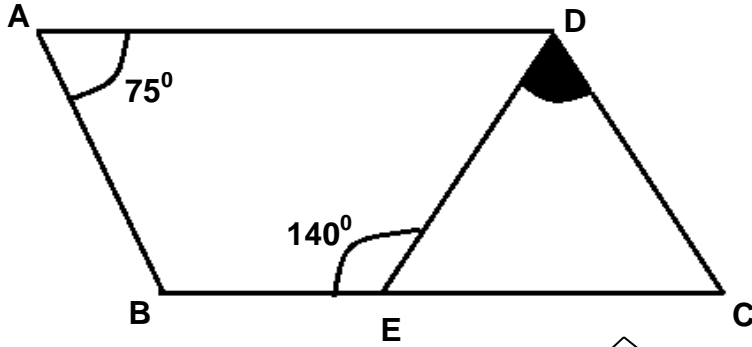
SORU 16.



Yukarıdaki grafikte bir kitabevinde yeni yayınlanmış olan bir kitabın günlük satışını göstermektedir. Yeni yayınlanmış olan kitabın tamamını 3 günde sattığına göre, üçüncü günde kitapların yüzde kaçını satmıştır?

- A) %40
- B) %35
- C) %25
- D) %100

SORU 17.



- A) 65°
- B) 75°
- C) 45°
- D) 105°

İNGİLİZCE TESTİ

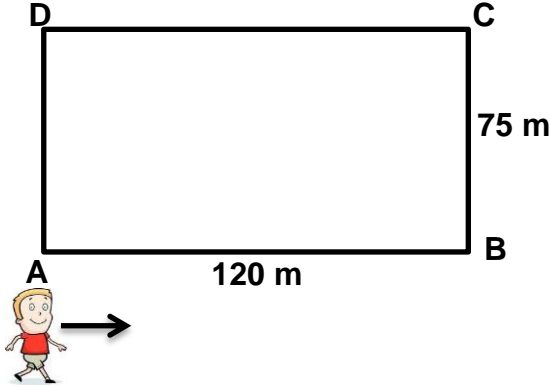
SORU 18.

- 70 m = 700 cm
- 29 cm = 290 mm
- 5800 m = 58 km
- 2.3 km = 2300 m
- 8 m 15 mm = 8015 mm
- 5m 2cm = 5.02 m

Yukarıda verilen uzunluk ölçü birimleri arasındaki dönüşümlerden kaç tanesi doğrudur?

- A) 7
- B) 6
- C) 5
- D) 4

SORU 19.



Yukarıdaki şekilde uzun kenarı 120 m ve kısa kenarı 75 m olan dikdörtgen şeklinde bir saha görüyorsunuz. A noktasında bulunan Toprak ok yönünde ilerleyerek 0.76 km yol gidiyor ve mola veriyor. Toprak'ın mola verdiği yer için aşağıdakilerden hangisi doğrudur?

- A) D noktasında mola verdi
- B) D ile C arasında mola verdi
- C) A ile B arasında mola verdi
- D) A ile D arasında mola verdi

İNGİLİZCE TESTİ

SORU 20. 2015-2016 ders yılında, Yakın Doğu Koleji giriş sınavına girmek için kayıt yaptıran öğrencilere 1'den başlayarak sıralı numaralar verilmiştir. Kayıt yaptıran son üç öğrencinin aday numaraları toplamı 1473'tür. 250 öğrenci sınavı kazanarak Yakın Doğu Koleji'ne kayıt yaptırdığına göre kaç öğrenci sınavda başarılı olamamıştır?

- A) 240
- B) 242
- C) 492
- D) 241

SORU 21. Ercan Hava Alanı'nından kalkan bir uçak 85 dakika sonra Saat 00.50'de Sabiha Gökçen Hava Alanı'na iniş yapmıştır. Buna göre uçağın Ercan'dan kalkış saati kaçtır?

- A) 23.25
- B) 22.25
- C) 24.25
- D) 21.25

SORU 22.

- 4.05 ondalık gösteriminde 5 rakamının sayı değeri $\frac{5}{100}$ 'dür.
- 215.743 ondalık gösteriminin yüzde birler basamağındaki rakam 4'tür.
- 4.9 ondalık gösterimi ile $4\frac{90}{100}$ kesri birbirine eşittir.
- 5.893 ondalık gösteriminde 5 rakamının basamak değeri ile 3 rakamının basamak değeri toplamı $5\frac{3}{1000}$ 'dir.
- 0.503 ondalık gösteriminde 5 rakamı ile 3 rakamı yer değiştirirse sayı 0.198 artar.

Yukarıdaki ifadelerden kaç tanesi doğrudur?

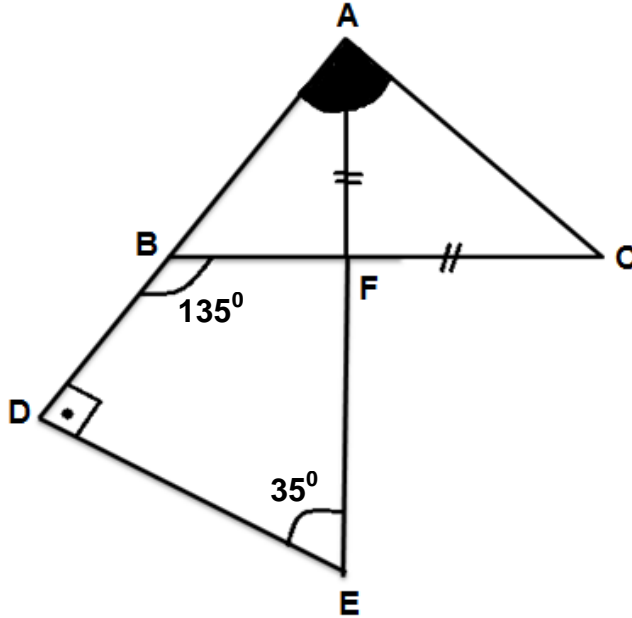
- A) 3
- B) 4
- C) 2
- D) 5

İNGİLİZCE TESTİ

SORU 23. Ahmet'in oyuncak arabalarının sayısı, Ali'nin oyuncak arabalarının sayısının iki katıdır. Ali'nin oyuncak arabalarının sayısı, Celal'in oyuncak arabalarının sayısından 40 fazladır. Ali'nin, Celal'in ve Ahmet'in toplam 300 oyuncak arabası vardır. Buna göre Ahmet'in oyuncak arabalarının sayısı kaçtır?

- A) 45
- B) 85
- C) 150
- D) 170

SORU 24.



Yukarıdaki şekilde \widehat{BDE} sı dik açıdır. AFC üçgeni ikizkenardır. [AF] ve [FC] kenarları eşittir. Buna göre \widehat{BAC} açısının ölçüsü kaç derecedir?

- A) 95°
- B) 40°
- C) 55°
- D) 135°

İNGİLİZCE TESTİ

SORU 25.

$$\begin{array}{r} \text{A} \mid 29 \\ \hline 30 \\ \hline \text{---} \dots \\ \hline \text{B} \end{array}$$

Yukarıdaki bölme işlemine göre A doğal sayısı en çok kaç olabilir?

- A) 900
- B) 899
- C) 898
- D) 870

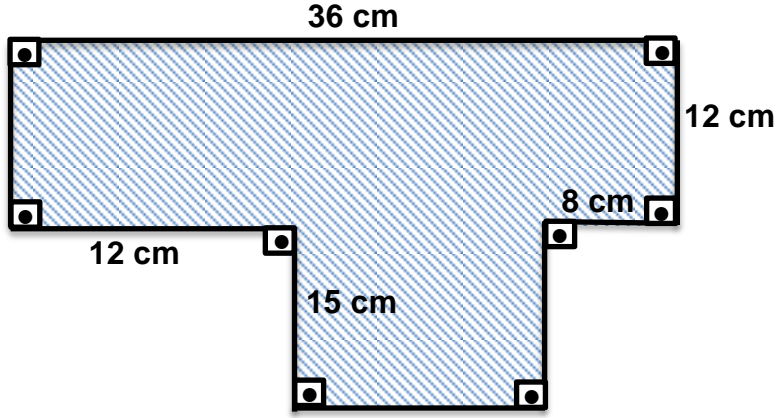
SORU 26. Enes'in parasının $\frac{3}{5}$ 'i, Arda'nın parasının $\frac{2}{7}$ sine eşittir.

Enes'in 300 TL'si vardır. Buna göre Arda'nın parası, Enes'in parasından kaç TL fazladır?

- A) 630 TL
- B) 330 TL
- C) 450 TL
- D) 1250 TL

İNGİLİZCE TESTİ

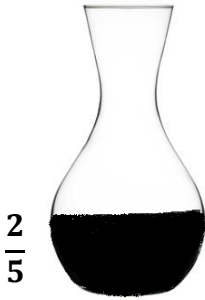
SORU 27.



Yukarıda verilen şeklin alanı ile çevresi arasındaki sayısal fark kaçtır?

- A) 546
- B) 672
- C) 126
- D) 196

SORU 28.

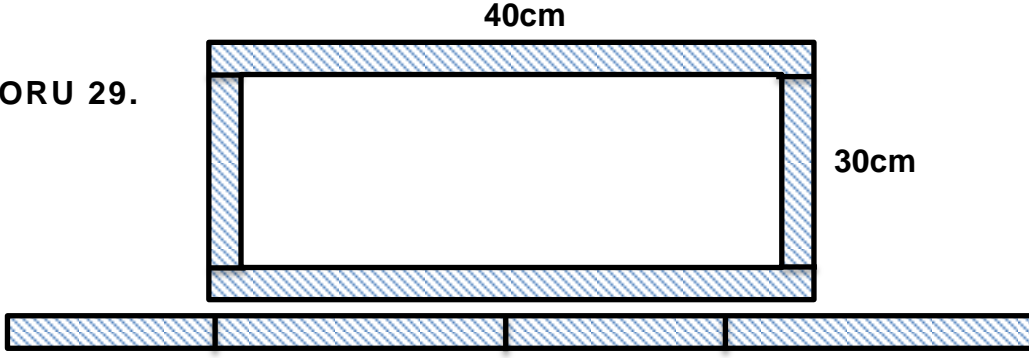


Yandaki kabın $\frac{2}{5}$ 'si yağ ile doludur. Bu kaptan 6 litre yağ alırsam kabın $\frac{8}{25}$ 'i dolu kalmış olur. Buna göre bu kabın tamamı kaç litre yağ alır?

- A) 75 Litre
- B) 15 Litre
- C) 10 Litre
- D) 20 Litre

İNGİLİZCE TESTİ

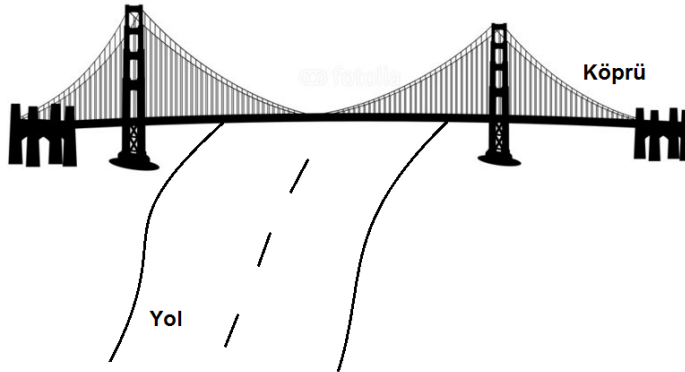
SORU 29.



Yukarıdaki dikdörtgenin uzun kenarı 40 cm kısa kenarı ise 30 cm'dir. Bu dikdörtgenin cevresi boyunca şekilde görüldüğü gibi 2 cm genişliğinde kağıt şerit kesmek istiyoruz. Kesilen kağıt şeritlerin toplam uzunluğu kaç cm'dir?

- A) 140 cm
- B) 132 cm
- C) 136 cm
- D) 130 cm

SORU 30.



Yukarıdaki resimde gördüğünüz köprü'nün yüksekliği 5.5 metredir. Buna göre aşağıdaki yüksekliğe sahip kamyonlardan hangisi bu köprü'nün altından geçemez?



MATEMATİK TESTİNİZ BİTMİŞTİR.

YANITLARINIZI KONTROL EDEREK İNGİLİZCE TESTİNE GEÇİNİZ.

İNGİLİZCE TESTİ

ENGLISH QUESTIONS

PART I: Choose the correct answer: A, B, C or D.

SORU 31. How many people at Mustafa's party last week?

- A) there were
- B) were there
- C) there was
- D) was there



SORU 32. Look at that man! He very fast.

- A) is driving
- B) driving
- C) drive
- D) am driving

SORU 33. Mum: Oh no, it's raining!

Sue: Don't worry. I an umbrella.

- A) will get
- B) get
- C) gets
- D) are getting

SORU 34. Dad: What lesson do you like the at school?

Ahmet: Maths.

- A) good
- B) better
- C) best
- D) bad

İNGİLİZCE TESTİ

SORU 35. I any plans for the summer.

- A) have
- B) don't have
- C) am having
- D) had

SORU 36. I while I
football.

- A) fell / played
- B) falling / playing
- C) fall / play
- D) fell / was playing



SORU 37. There was a film on TV last night was very funny.

- A) who
- B) which
- C) when
- D) where

SORU 38. Let's a picnic at the weekend .

- A) having
- B) had
- C) have
- D) has



SORU 39. I have an English exam tomorrow so I study
tonight.

- A) has to
- B) have to
- C) had to
- D) have

İNGİLİZCE TESTİ

SORU 40. Ayşe: aren't you at school?

Selin: Because I am not feeling well.

- A) Where
- B) When
- C) Why
- D) Who

SORU 41. I went to the shop to a magazine.

- A) buy
- B) buying
- C) bought
- D) buys

SORU 42. Where is Mehmet? I can't see

- A) her
- B) him
- C) them
- D) his

SORU 43. Teacher: What is the month of the year.

Student: It's June.

- A) fifth
- B) seventh
- C) sixth
- D) fourth

İNGİLİZCE TESTİ

SORU 44. Deniz: books did you read in the February holiday?

Mahmut: Five.

- A) How much
- B) How many
- C) How
- D) Where



SORU 45. I am going to Turkey with my grandparents the summer.

- A) at
- B) on
- C) in
- D) by

PART II: Read the story and choose the correct answer: a, b, c or d.

Yesterday, it was my granddad's birthday so I helped my mum to cook a special dinner for him. We cooked chicken and potatoes. It's his favourite meal. The food smelled good. We put a bowl of fruit on the table. There were oranges, bananas and apples in the bowl. My granddad likes strawberries but we didn't have any.

At eight o'clock, dad came home with my granddad and my grandmother. At half past eight, my uncle and aunt came with my cousins. We sat down and ate the food. It was lovely.

After dinner, we all sang "Happy Birthday" and gave presents to my grandfather. I bought him a scarf. My parents bought him a music CD and my cousins bought him a new pair of pyjamas.

My granddad told us lots of stories. We all had a great time and we stayed up late. I went to bed at quarter past eleven.

SORU 46. Whose favourite meal is chicken and potatoes?

- A) Mum's.
- B) My uncle's.
- C) My dad's.
- D) My granddad's.

İNGİLİZCE TESTİ

SORU 47. Which fruit wasn't in the bowl?

- A) strawberries.
- B) oranges.
- C) apples.
- D) bananas.

SORU 48. What time did my aunt and uncle come?

- A) At 8:00.
- B) At 8:30.
- C) At 11:15.
- D) After dinner.

SORU 49. Who came home with my grandparents?

- A) My cousins.
- B) My aunt.
- C) My dad.
- D) My uncle.

SORU 50. What did my mum and dad buy for granddad?

- A) A scarf.
- B) A story book.
- C) New pyjamas.
- D) A music CD.

**PLEASE CHECK YOUR ANSWERS
CAREFULLY!**