

**YAKIN DOĞU İLKOKULU**

**2017-2018 DERS YILI**

**4. SINIF I. SEVİYE TESPİT SINAVI**

**24 OCAK 2018 ÇARŞAMBA**

Adı – Soyadı: .....

Not:.....

Sınıf: .....

Süre: 90dk.

**2. OTURUM SORU KİTAPÇIĞI**

**MATEMATİK – İNGİLİZCE**

**GENEL AÇIKLAMA**

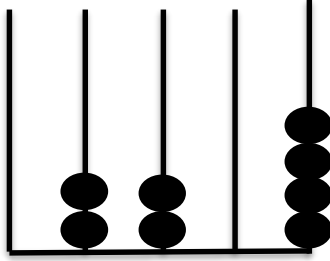
1. Bu kitapçık Matematik ve İngilizce sorularını içermektedir. Kitapçık 18 sayfadan oluşmaktadır.
2. Bu test 30 Matematik ve 20 İngilizce sorusundan oluşmaktadır. (Toplam 50 soru) Tüm soruları yanıtlamanız için size 90 dakikalık süre verilecektir.
3. Her sorunun 4 seçeneği vardır. Doğru yanıt yalnız bir tanesidir. Bir soruda birden çok seçenek işaretlenirse o soru yanlış olarak değerlendirilir.
4. Bilmediğiniz soru üzerinde fazla zaman harcamayınız. Zamanınız kalırsa tekrar dönersiniz.

## MATEMATİK TESTİ

1. Aşağıdaki seçeneklerden hangisi beş basamaklı sayıların basamaklarından biri değildir?

- A) Onbinler
- B) Binler
- C) Yüzbinler
- D) Yüzler

2.



Abaküsteki sayıyı oluşturan rakamların sayı değeri toplamı kaçtır?

- A) 2204
- B) 8
- C) 2024
- D) 16

3.

Bir dik açı ile bir dar açının toplamı en çok kaç derece olabilir?

- A)  $91^{\circ}$
- B)  $181^{\circ}$
- C)  $359^{\circ}$
- D)  $179^{\circ}$

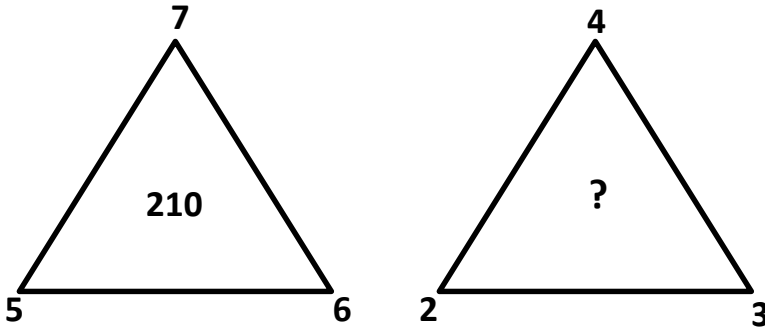
## MATEMATİK TESTİ

---

4. Salih Dayı'nın 20 keçisinin yarısı ikiz, diğer yarısı da üçüz yavruladı. Salih Dayı'nın toplam kaç hayvanı oldu?

- A) 50
- B) 70
- C) 40
- D) 60

5.



Birinci şekildeki sayılar arasındaki ilişkiye göre, ikinci şekildeki soru işaretinin yerine hangi sayı gelmelidir?

- A) 110
- B) 48
- C) 37
- D) 24

6. İki ardışık sayının toplamı 175 ise küçük sayı aşağıdakilerden hangisidir?

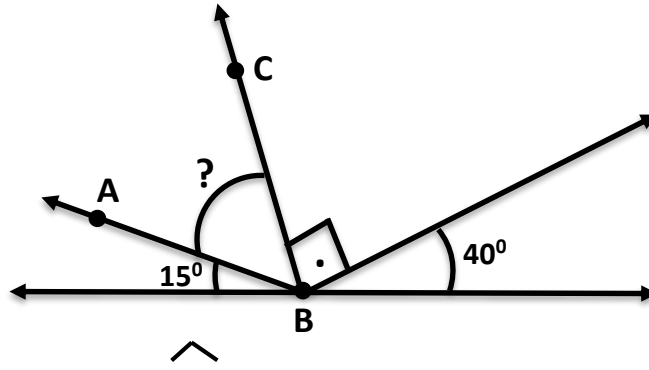
- A) 87
- B) 48
- C) 88
- D) 80

## MATEMATİK TESTİ

7.  $\Delta - 39 > 40$  eşitsizliğinde  $\Delta$  yerine gelebilecek en küçük doğal sayı kaçtır?

- A) 78
- B) 79
- C) 42
- D) 80

8.



Yukarıdaki şekilde ABC kaç derecedir?

- A)  $35^\circ$
- B)  $90^\circ$
- C)  $75^\circ$
- D)  $55^\circ$

9. Ayşe ve Can paralarını birleştirip 560 liraya bir bisiklet aldılar. Ayşe Can'dan 6 kat daha fazla para ödedi. İkisi de bisiklete ödedikleri para kadar kullanma haklarının olduğu konusunda anlaştilar. Bu durumda 42 gün içinde Can kaç gün bisiklet sürebilecek?

- A) 7
- B) 36
- C) 252
- D) 6

## MATEMATİK TESTİ

10.

$$43 \square 86 > 43691$$

Yukarıdaki eşitsizliğin doğru olabilmesi için  $\square$  yerine aşağıdaki rakamlardan hangisi gelmelidir?

- A) 0
- B) 6
- C) 8
- D) 4

11. Aşağıdaki sayılardan hangisinin en yakın yüzlüğe yuvarlanış yönü diğerlerinden farklıdır?

- A) 4288
- B) 5949
- C) 5263
- D) 5751

12. Bulut ve Mert toplam 168 sayfa kitap okudular. Bulut Mert'ten 14 sayfa daha az okuduğuna göre Mert kaç sayfa kitap okudu?

- A) 91
- B) 154
- C) 77
- D) 14



## MATEMATİK TESTİ

---

13. Aşağıdaki matematiksel ifadelerden hangisi mantıksızdır?

- A) Babam bir aylık maaşı ile bizi bir hafta tatile götürdü.
- B) Umut bisikletini satarak elde ettiği parayla bir ev satın aldı.
- C) Melisa harçlığını biriktirerek kendine spor ayakkabı aldı.
- D) Oya okulda kendine ve arkadaşlarına simit alarak kantinciye 5 lira verdi.

14. Babam 4 400 liralık maaşının 3 709 lirasını aile bütçesi için harcadı. Ailemizin kaç parası kaldı?

- A) 817
- B) 1670
- C) 691
- D) 8150

15. Doğal sayı olarak en büyük geniş açı ile en küçük dar açının toplamı nasıl bir açı meydana getirir?

- A) Doğru Açı
- B) Dik Açı
- C) Geniş Açı
- D) Tam Açı

## MATEMATİK TESTİ

16. Dedem bana ve 4 kardeşime 14'er ceviz verince kendisine 27 ceviz kaldı. Dedem cevizlerini dağıtmadan önce elinde toplam kaç tane ceviz vardı?

- A) 83  
B) 65  
C) 97  
D) 108



17. Dönerci Veli Amca günde 220 paket döner satmaktadır. Her paketten 8 lira kazanan Veli Amca'nın 15 günlük döner kazancı kaç liradır?

- A) 26 400  
B) 1760  
C) 228  
D) 120

18. 1250 metrelik bir dağa tırmanış yapan Berk her 250 metreyi 7 dakikada tırmanıp 5 dakika da dinlendi. Berk dağın zirvesine ne kadar sürede tırmandı?

- A) 35 dakikada  
B) 60 dakikada  
C) 55 dakikada  
D) 42 dakikada



## MATEMATİK TESTİ

---

19. "40040" sayısının okunuşu hangi seçenekte doğru verilmiştir?

- A) On dört bin kırk.
- B) Kırk bin dört yüz.
- C) Dört bin kırk
- D) Kırk bin kırk.

20. Hangi seçenekteki sayı iki ardışık doğal sayısının toplamı olamaz?

- A) 232
- B) 115
- C) 37
- D) 99

21. 5 basamaklı en büyük ve en küçük doğal sayıların basamak değerleri toplamalarının farkı kaçtır?

- A) 9500
- B) 89 999
- C) 99 000
- D) 1000

22. Cem, öğretmenin söylediği sayı ile 962 sayısını toplayıp 3000 sayısını buldu. Buna göre öğretmenin Cem'e söylediği sayı kaçtır?

- A) 2038
- B) 3800
- C) 3962
- D) 2380

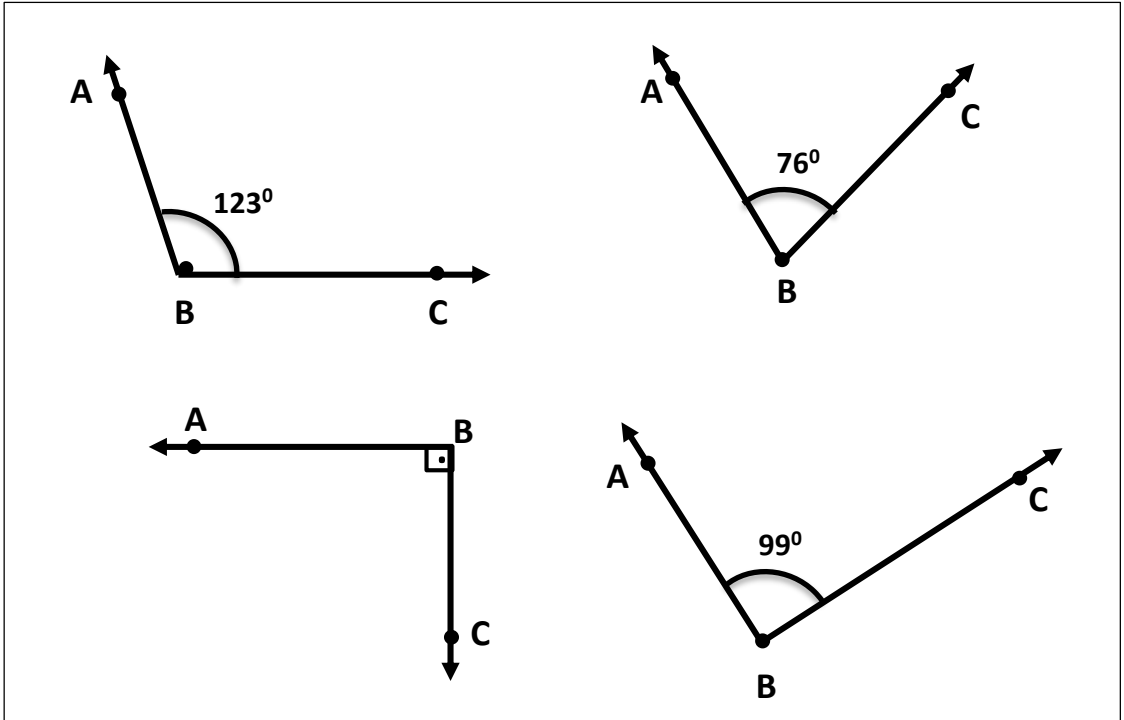


## MATEMATİK TESTİ

23.  $72 \div K = 9$  Ve  $K \times 11 = Z$  olduğuna göre Z kaçtır?

- A) 108
- B) 88
- C) 99
- D) 163

24.



Yukarıdaki açılardan kaç tanesi geniş açıdır?

- A) 4
- B) 3
- C) 2
- D) 1

## MATEMATİK TESTİ

25. "7017" doğal sayısının çözümlenmiş şekli hangi seçenekte doğru olarak verilmiştir?

- A)  $(7 \times 10\ 000) + (1 \times 10) + (7 \times 1)$
- B)  $(7 \times 1000) + (1 \times 10) + (7 \times 1)$
- C)  $(7 \times 1000) + (1 \times 100) + (1 \times 10)$
- D)  $(7 \times 100) + (1 \times 100) + (7 \times 1)$

26.  $37 < \dots\dots\dots < 64$

Yukarıdaki sıralamada noktalı yere gelebilecek en küçük doğal sayı ile en büyük doğal sayının toplamı kaçtır?

- A) 101
- B) 67
- C) 107
- D) 65

27. 5 basamaklı bir doğal sayımız var. Binler bölümündeki rakamlar 8, birler bölümündeki rakamlar 3 ise bu sayının sayı değeri toplamı nedir?

- A) 25
- B) 80300
- C) 88 333
- D) 58 333

## MATEMATİK TESTİ

28. 200 sayısından, 67 sayısının 10'a yuvarlanmış halini çıkarırsak hangi sayıyı elde ederiz?

- A) 267
- B) 33
- C) 260
- D) 130

29.

57 - 12
63 - 9
71 - 8
33 - ?

Yandaki sayı çiftleri arasındaki ilişkiye göre ? yerine hangi sayı gelmelidir?

- A) 7
- B) 5
- C) 6
- D) 9

30. Biriktirdiğim paramın yarısını okula gelirken evde bıraktım. Okula getirdiğim paranın yarısı ile 15 liraya sandviç ve meyve suyu aldım. Biriktirdiğim para kaç liraydı?

- A) 15
- B) 30
- C) 45
- D) 60

MATEMATİK TESTİNİZ BİTMİŞTİR YANITLARINIZI KONTROL EDEREK  
İNGİLİZCE TESTİNE GEÇİNİZ.

# İNGİLİZCE TESTİ

---

Choose the correct answer: a, b, c or d.


31. Monday is the ..... day of the week.

- A) seventh
- B) fifth
- C) third
- D) first



32. Ayşe and I ..... teachers.

- A) is
- B) am
- C) are
- D) we



33. John: ..... pencil case is this?

Peter: It's .....

- A) Who / Sally
- B) Whose / Sally's
- C) Whose / her
- D) Who's / Sally



# İNGİLİZCE TESTİ

---

34. Alex ..... a moustache.

- A) has got
- B) have got
- C) not got
- D) is



35. My mum's birthday is ..... July.

- A) on
- B) in
- C) at
- D) the



36. Hugo likes ..... trees.

- A) climbs
- B) climb
- C) is climbing
- D) climbing



## İNGİLİZCE TESTİ

---

37. My sister ..... breakfast at the moment.

- A) eats
- B) is eating
- C) eat
- D) eating



38. Lucy loves animals. This is a picture of ..... cat.

- A) her
- B) his
- C) they
- D) she



39. Daisy: ..... are your books?

Fred: They are in the cupboard.

- A) Who
- B) What
- C) Where
- D) When



## İNGİLİZCE TESTİ

---

40.



Hi Tom! ..... you play football at school?

Yes, I ..... in the school team.



- A) Do / am
- B) Does / is
- C) Do / doesn't
- D) Does / not

41. My grandmother is not young. She is .....

- A) small
- B) old
- C) sad
- D) ugly

42. Tom ..... got a red bike, but Bill ..... . He has got a blue bike.

- A) has / hasn't
- B) have / hasn't
- C) have / haven't
- D) has / has



## İNGİLİZCE TESTİ

---

43. The black car is big. The white car is small.

The black car is ..... than the white car.

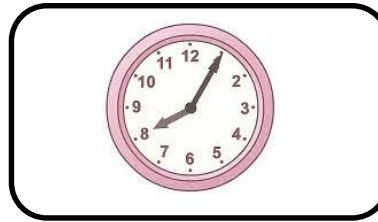
- A) big
- B) smaller
- C) small
- D) bigger



44.



Hi Fred. What time do you usually get up on Saturdays?



- A) ten past eight.
- B) five to eight.
- C) five past eight.
- D) eight o'clock.

45. Sally ..... to the cinema once a month.

- A) go
- B) going
- C) is going
- D) goes



# İNGİLİZCE TESTİ

Read and answer questions 46-50.

## Living in Cyprus

My name is Ahmet. I'm fourteen years old. I live in Nicosia and I'm a student. My dad works at a bank and my mum is a teacher at my school. I have a brother but I don't have any sisters. My grandmother lives with us, too. She stays at home and cooks. We live in a small house in Gönyeli but there are four bedrooms in our house, so I have my own room. The living room, dining room and kitchen are downstairs and the bedrooms and bathroom are upstairs. We live near the shopping centre so I usually go there on Saturday afternoons to meet my friends. We always go to Gloria Jean's for coffee. I like it there.

The weather in Cyprus is good. In the summer, it is usually sunny and hot and I can go to the beach to swim. In the winter, it is cold and it sometimes rains. I often stay at home in the winter.

I love living in Cyprus!

**46. How many people live in Ahmet's house?**

- A) Four.
- B) Five.
- C) Three.
- D) Six.

**47. Who cooks?**

- A) Mum.
- B) Sister.
- C) Grandmother.
- D) Dad.

## İNGİLİZCE TESTİ

---

48. Which room is upstairs?

- A) The bathroom.
- B) The living room.
- C) The kitchen.
- D) The dining room.

49. How often does Ahmet meet his friends on Saturday afternoons?

- A) Always.
- B) Often.
- C) Sometimes.
- D) Usually.

50. Which one is wrong?

- A) Ahmet lives in Cyprus.
- B) Ahmet's mum teaches at his school.
- C) The weather in Cyprus isn't good.
- D) Ahmet often stays at home in the winter.

İNGİLİZCE TESTİNİZ BİTMİŞTİR YANITLARINIZI KONTROL EDİNİZ.