



Yakın Doğu İlkokulu

Near East Junior College


ADI SOYADI: SINIF:.....TARİH:1/04/2020 Çarşamba

MATEMATİK ÇALIŞMA SORULARI

1) Verilen çarpma işlemlerini örnekteki gibi kümelerle gösterelim.

Örnek:

$$2 \times 2 = 4$$



$$\underline{2} + \underline{2} = \underline{4}$$

a) $6 \times 2 = 12$



$$\underline{2} + \underline{2} + \underline{2} + \underline{2} + \underline{2} + \underline{2} = \underline{12}$$


b) $4 \times 1 = 4$



$$\underline{1} + \underline{1} + \underline{1} + \underline{1} = \underline{4}$$

2) Kümelerle verilen toplama işlemlerini örnekteki gibi çarpmaya çeviriniz.


Örnek:



$$\underline{4} + \underline{4} + \underline{4} + \underline{4} = \underline{16}$$

$$\underline{4} \text{ tane } \underline{4}, \underline{16} \text{ eder. } \longrightarrow \underline{4} \times \underline{4} = \underline{16}$$

a)



$$\underline{5} + \underline{5} + \underline{5} + \underline{5} + \underline{5} = \underline{25}$$

$$\underline{5} \text{ tane } \underline{5}, \underline{25} \text{ eder. } \longrightarrow \underline{5} \times \underline{5} = \underline{25}$$

b)



$$\underline{0} + \underline{0} + \underline{0} + \underline{0} + \underline{0} + \underline{0} = \underline{0}$$

$$\underline{6} \text{ tane } \underline{0}, \underline{0} \text{ eder. } \longrightarrow \underline{6} \times \underline{0} = \underline{0}$$

3) Altan 80 lirasının 34 lirasıyla pantolon, 27 lirasıyla kazak almıştır. Altan'ın geriye kaç parası kalmıştır?

CEVAP:

$$\begin{array}{r} 80 \\ - 34 \\ \hline 46 \end{array} \quad \begin{array}{r} 46 \\ - 27 \\ \hline 19 \end{array}$$

4) Ersin, yeni aldığı bir kitaptan birinci gün 23, ikinci gün 25 soru çözmüştür. Buna göre Ersin'in iki günde çözdüğü toplam soru sayısı kaçtır?

$$\begin{array}{r} \text{CEVAP :} \quad 23 \\ + 25 \\ \hline 48 \end{array}$$

5) Üç basamaklı en büyük sayıdan, iki basamaklı en büyük sayıyı çıkarırsak kaç kalır

$$\begin{array}{r} \text{CEVAP :} \quad 999 \\ - 99 \\ \hline 900 \end{array}$$

