



1996



YAKIN DOĞU İLKOKULU
NEAR EAST JUNIOR COLLEGE

Adı Soyadı:..... Sınıf:..... Tarih:.....

MATEMATİK CEVAP KAĞIDI


1- Aşağıdaki işlemleri yapalım.

		1	1					1						1	1			
		5	7	9				5	6	9				4	6	7	5	
	+	8	7	9				+	4	1	7			+	8	2	3	5
		1	4	5	8				9	8	6			1	2	9	1	0
		2	6	4					5	6	7				6	5	5	
	+	2	2	7				+	4	0	8			+	1	2	8	
		4	9	1					9	7	5				7	8	3	
		4	7	2					4	4	4				3	2	8	
	+	2	9	5				+	5	4	3			+	3	4	5	
		7	6	7					9	8	7				6	7	3	



2- Aşağıdaki çarpma işlemlerini yapalım.

		1	1					2	1					5	2				
		4	3	2					5	4	3				4	7	3		
	x			6				x			5			x			7		
		2	5	9	2				2	7	1	5			3	3	1	1	
		3	1	1					1	1	2				3	3	1		
		6	7	3	2				7	4	3	8			5	7	9	3	
	x			5				x			3			x			4		
		3	3	6	6	0			2	2	3	1	4		2	3	1	7	2



3-Pelin 220 sayfalık kitabın 105 sayfasını okudu. Pelin'in kitabı bitirmesi için kaç sayfa daha okuması gerekir?

$$\begin{array}{r} 220 \\ -105 \\ \hline \end{array}$$

115 sayfa daha okuması gerekir.



4-İki basamaklı en büyük çift doğal sayının 8 katı kaç olur?

$$\begin{array}{r} 98 \\ \times 8 \\ \hline 784 \end{array}$$

