



İsim:.....Soyisim:.....Sınıf:.....Tarih:.....

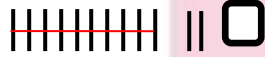
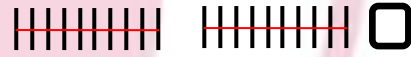


MATEMATİK TEKSİRİ


1- Bir deste kadar karanfilim vardı. Bunların 6 tanesini anneme verdim. Geriye kaç karanfil kaldı?

2- 3'e kaç eklersem bir deste olur? (İpucu:Kaç ister?)  ?

3- Hangisi 12 sayısının deste ile gösterilişidir?



4- Verilen şekil ve resimleri bir desteye tamamlayalım. Kaç tane ekledik yazalım.



5- Sayıları deste olarak gösterelim.

a) **14:**

b) **16:**

c) **18:**

6- Biraz da eğlenelim.

The image features a large yellow thinking emoji at the top center. Below it, two subtraction problems are presented in blue boxes: $10 - 2 =$ and $7 - 5 =$. Red arrows labeled "cevap" (answer) point from the empty boxes of these subtraction problems to an addition problem at the bottom: $\square + \square = \square$. The background contains a faint watermark of a school logo with the text "KIN DOĞU İLKOKULU • NEAR EAST JUNIOR COLLEGE" and the year "1996".