



İsim:.....Soyisim:.....Sınıf:.....Tarih:.....

MATEMATİK

☺TEKRAR EDELİM☺

1)Aşağıdaki bulutların içindeki karışık verilen işlemleri yapınız.

$4+2=$

$3-3=$

$7+3=$



$8+1=$

$5-0=$

$3+5=$



$10-0=$

$6+2=$

$8-4=$









2) Aşağıdaki işleme göre  kaç olur?

$$8 + \triangle = 10$$

3) Buse, yandaki güler yüzleri bir desteye tamamlamak istiyor. O halde Buse' nin kaç tane daha güler yüz çizmesi gerekmektedir?



4) Onluk ve birlikleri verilen sayılar ile örnekteki gibi eşleştiriniz.

2 onluk	3 birlik			47
1 onluk	9 birlik			23
4 onluk	7 birlik			19
5 onluk	0 birlik			50