



Yakın Doğu İlkokulu

Near East Junior College


ADI SOYADI: SINIF:.....TARİH:1/04/2020 Çarşamba

MATEMATİK ÇALIŞMA SORULARI

1) Verilen çarpma işlemlerini örnekteki gibi kümelerle gösterelim.

Örnek:

$$2 \times 2 = 4$$



$$\underline{2} + \underline{2} = \underline{4}$$

a) $6 \times 2 =$

b) $4 \times 1 =$

2) Kümelerle verilen toplama işlemlerini örnekteki gibi çarpmaya çeviriniz.

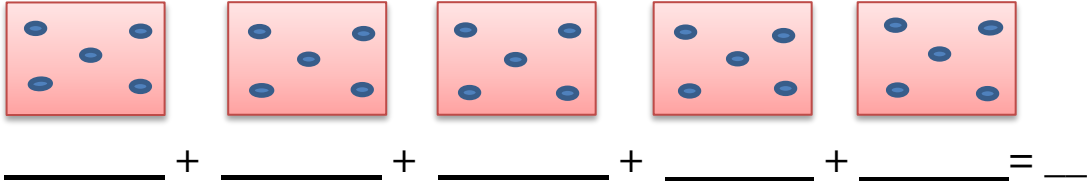
Örnek:



$$\underline{4} + \underline{4} + \underline{4} + \underline{4} = \underline{16}$$

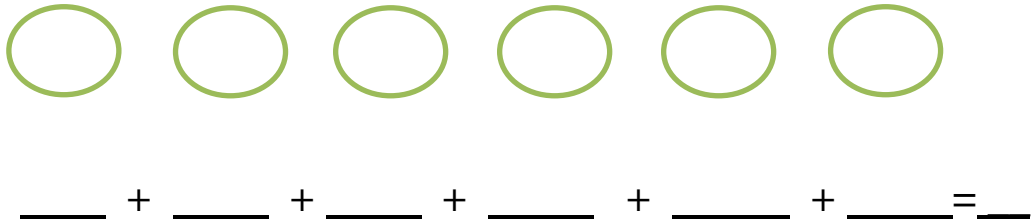
4 tane 4, 16 eder. \longrightarrow 4 x 4 = 16

a)



_____ tane _____, _____ eder. \longrightarrow _____ x _____ = _____

b)



_____ tane _____, _____ eder. \longrightarrow _____ x _____ = _____

3) Altan 80 lirasının 34 lirasıyla pantolon, 27 lirasıyla kazak almıştır. Altan'ın geriye kaç parası kalmıştır?

4) Ersin, yeni aldığı bir kitaptan birinci gün 23, ikinci gün 25 soru çözmüştür. Buna göre Ersin'in iki günde çözdüğü toplam soru sayısı kaçtır?

5) Üç basamaklı en büyük sayıdan, iki basamaklı en büyük sayıyı çıkarırsak kaç kalır?

