









Adı-Soyadı:..... Sınıf:.....Tarih:14 Nisan 2020 Salı

ÇARPIM TABLOSUNU ÖĞRENELİM

<p>×1</p> <p>1 x 1 = 1 2 x 1 = 2 3 x 1 = 3 4 x 1 = 4 5 x 1 = 5 6 x 1 = 6 7 x 1 = 7 8 x 1 = 8 9 x 1 = 9 10 x 1 = 10</p> 	<p>×2</p> <p>1 x 2 = 2 2 x 2 = 4 3 x 2 = 6 4 x 2 = 8 5 x 2 = 10 6 x 2 = 12 7 x 2 = 14 8 x 2 = 16 9 x 2 = 18 10 x 2 = 20</p> 	<p>×3</p> <p>1 x 3 = 3 2 x 3 = 6 3 x 3 = 9 4 x 3 = 12 5 x 3 = 15 6 x 3 = 18 7 x 3 = 21 8 x 3 = 24 9 x 3 = 27 10 x 3 = 30</p> 
<p>×4</p> <p>1 x 4 = 4 2 x 4 = 8 3 x 4 = 12 4 x 4 = 16 5 x 4 = 20 6 x 4 = 24 7 x 4 = 28 8 x 4 = 32 9 x 4 = 36 10 x 4 = 40</p> 	<p>×5</p> <p>1 x 5 = 5 2 x 5 = 10 3 x 5 = 15 4 x 5 = 20 5 x 5 = 25 6 x 5 = 30 7 x 5 = 35 8 x 5 = 40 9 x 5 = 45 10 x 5 = 50</p> 	<p>×10</p> <p>1 x 10 = 10 2 x 10 = 20 3 x 10 = 30 4 x 10 = 40 5 x 10 = 50 6 x 10 = 60 7 x 10 = 70 8 x 10 = 80 9 x 10 = 90 10 x 10 = 100</p> 

YAPALIM ÖĞRENELİM

1. Aşağıda verilen çarpma işlemlerini yapınız.

$1 \times 2 = \dots$	$5 \times 2 = \dots$	$3 \times 5 = \dots$
$5 \times 1 = \dots$	$2 \times 4 = \dots$	$4 \times 5 = \dots$
$1 \times 4 = \dots$	$5 \times 2 = \dots$	$4 \times 4 = \dots$
$2 \times 2 = \dots$	$3 \times 4 = \dots$	$6 \times 1 = \dots$
$6 \times 4 = \dots$	$8 \times 5 = \dots$	$2 \times 4 = \dots$
$7 \times 10 = \dots$	$10 \times 4 = \dots$	$9 \times 4 = \dots$

2. Aşağıda verilen toplama işlemlerini, çarpma işlemi ile yazınız.

a) $2+2+2+2+2 = \dots \quad \dots \times \dots = \dots$

b) $3+3+3 = \dots \quad \dots \times \dots = \dots$

c) $1+1 = \dots \quad \dots \times \dots = \dots$

d) $4+4+4+4 = \dots \quad \dots \times \dots = \dots$

3. Aşağıda verilen çarpma işlemlerini, toplama işlemi ile yazınız.

a) $3 \times 2 = \dots \quad \dots + \dots + \dots =$

b) $4 \times 1 = \dots \quad \dots + \dots + \dots + \dots =$

c) $5 \times 3 = \dots \quad \dots + \dots + \dots + \dots + \dots =$

d) $2 \times 2 = \dots \quad \dots + \dots =$

YAKIN DOĐU İLKOKULU

• NEAR EAST JUNIOR COLLEGE



1996