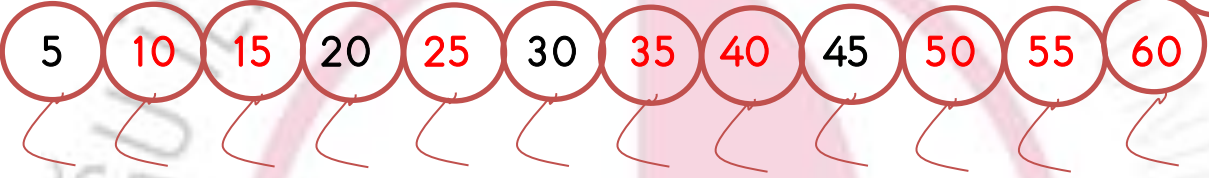




İsim:.....Soyisim:.....Sınıf:.....Tarih:.....

MATEMATİK

😊 Eksik sayıları tamamlayınız.



😊 Onluk ve birlikleri verilen sayıları yazınız.

3 onluk + 6 birlik =36.....

2 onluk + 7 birlik = 27

1 onluk + 4 birlik = 14

5 onluk + 9 birlik = 59

4 onluk + 8 birlik = 48

6 onluk + 0 birlik = 60

5 onluk + 0 birlik = 50

4 onluk + 3 birlik = 43

😊 Sayıların okunuşlarını yaz.

26: yirmi altı

17: on yedi

43: kırk üç

39: otuz dokuz

54: elli dört

55: elli beş

60: altmış

40: kırk



Aynı değerde olan sayıyı bul ve eşleştir.

18

25

39

60

47

56

24

58

42

33

otuz üç



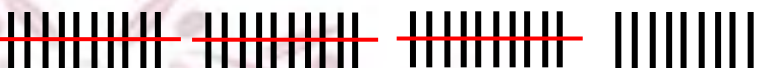
5 onluk + 8 birlik



elli altı

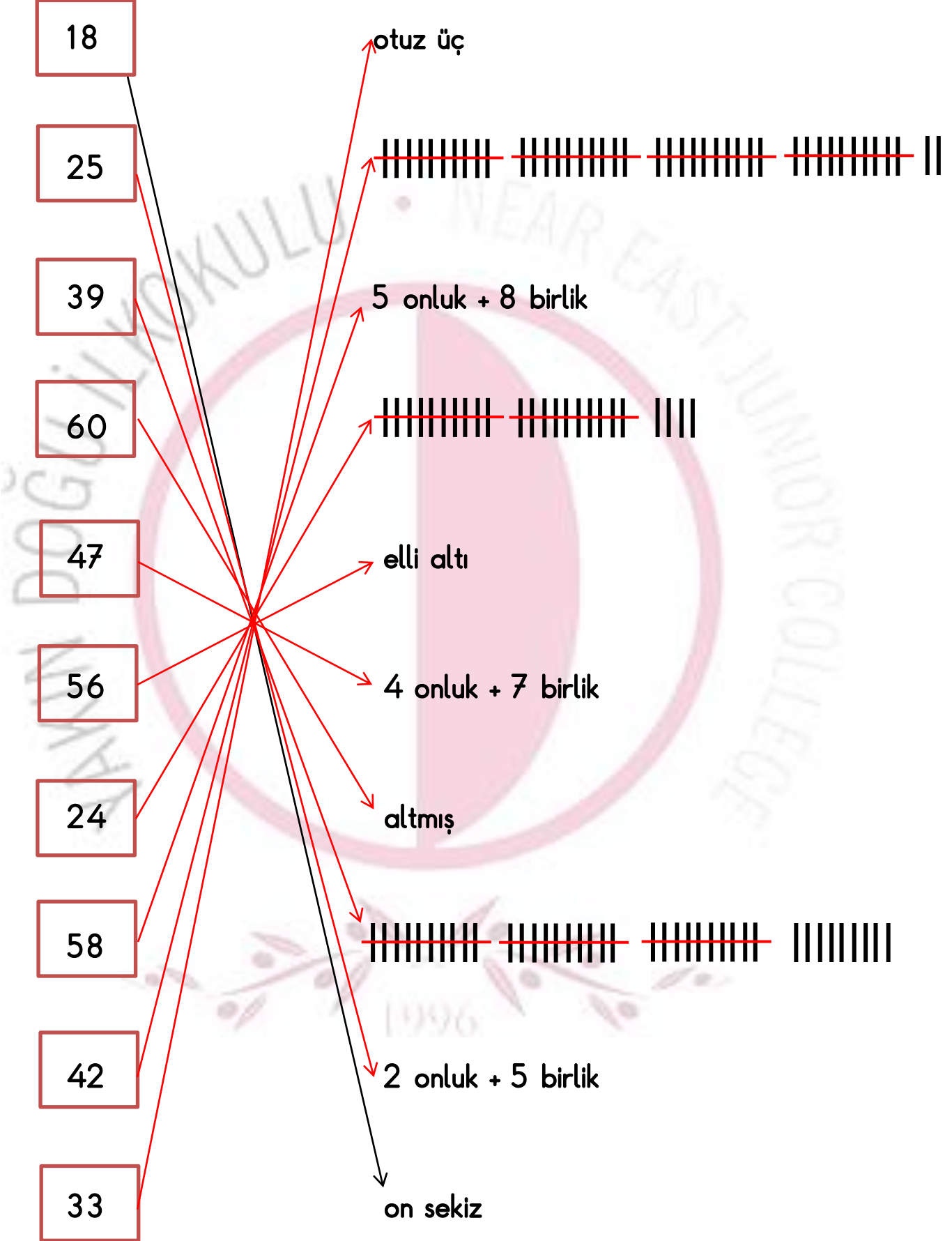
4 onluk + 7 birlik

altmış



2 onluk + 5 birlik

on sekiz





Aynı değerde olanları birleştir.

