




İsim:.....Soyisim:.....Sınıf:.....Tarih:.....

MATEMATİK



Eksik sayıları tamamlayınız.



Onluk ve birlikleri verilen sayıları yazınız.

3 onluk + 6 birlik =36.....

2 onluk + 7 birlik =.....

1 onluk + 4 birlik =

5 onluk + 9 birlik =.....

4 onluk + 8 birlik =

6 onluk + 0 birlik =.....

5 onluk + 0 birlik=

4 onluk + 3 birlik =.....



Sayıların okunuşlarını yaz.

26: yirmi altı

17:.....

43:

39:.....

54:

55:.....

60:

40:.....

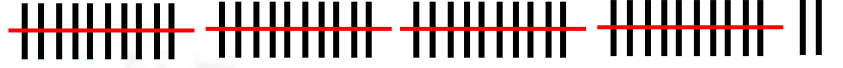


Aynı değerde olan sayıyı bul ve eşleştir.

18

otuz üç

25



39

5 onluk + 8 birlik

60



47

elli altı

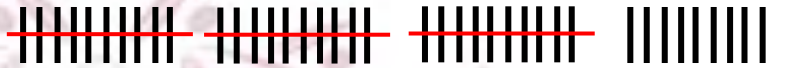
56

4 onluk + 7 birlik

24

altmış

58

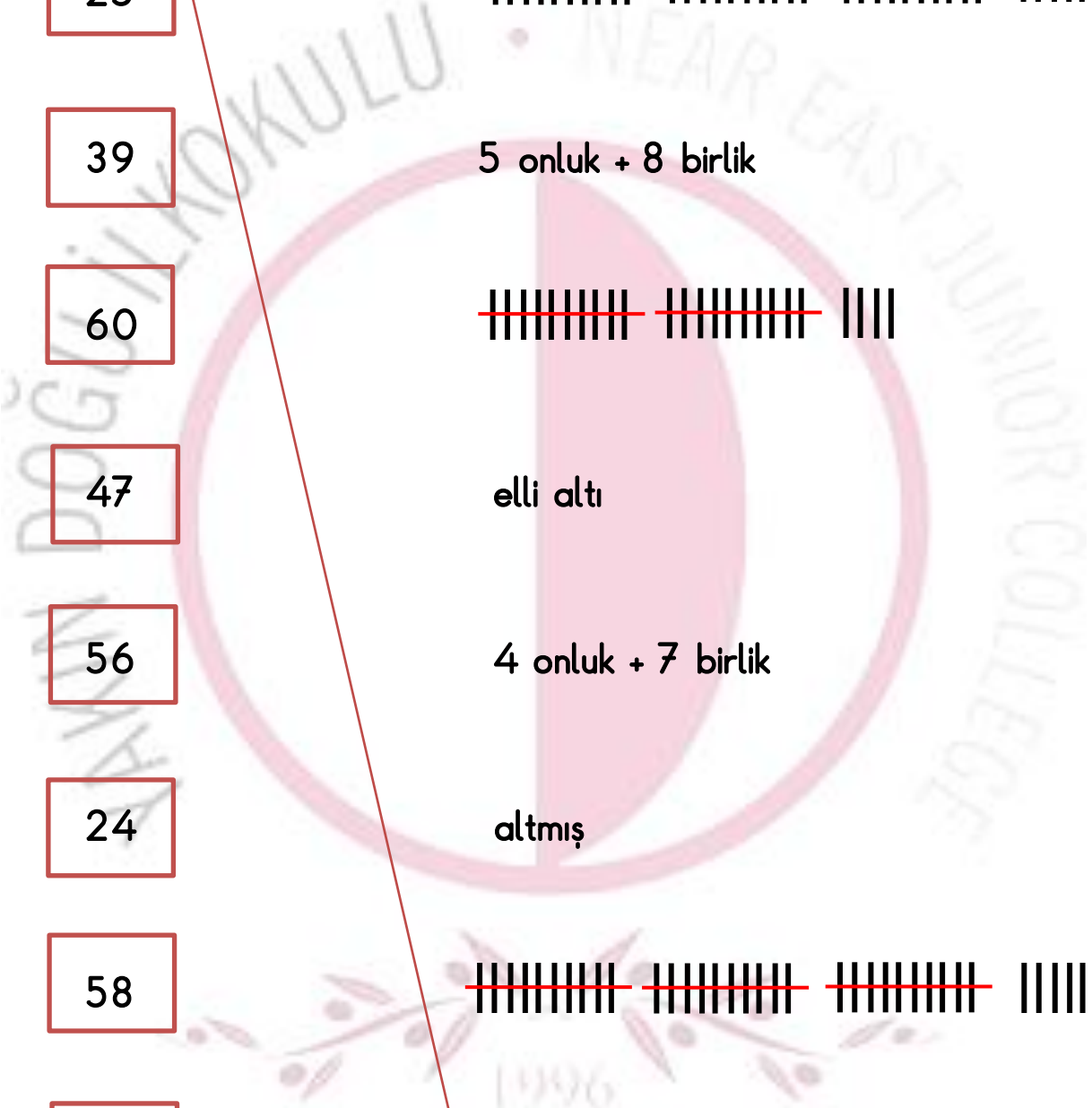


42

2 onluk + 5 birlik


33

on sekiz





Aynı değerde olanları birleştir.




1 deste




3 deste



5 deste



2 deste



4 deste



6 deste

