



İsim:.....Soyisim:.....Sınıf:.....Tarih:.....

MATEMATİK TEKSİRİ

1) Verilen sayıların onluklarını ve birliklerini yazınız.

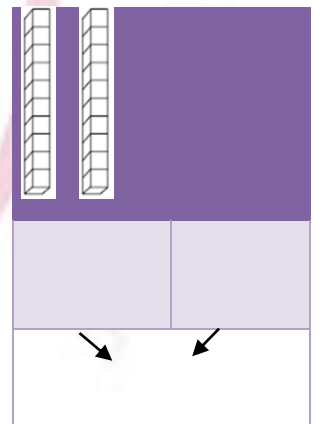
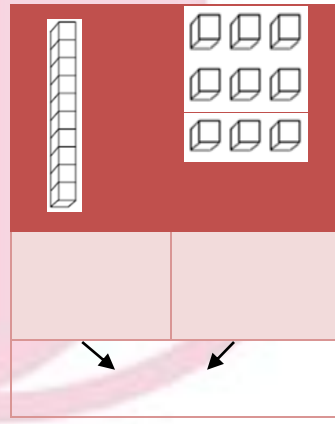
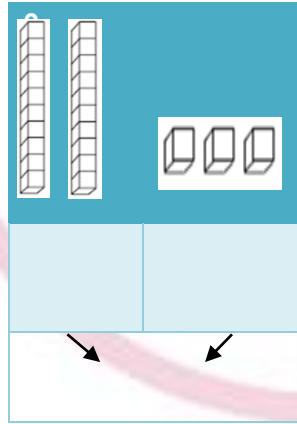
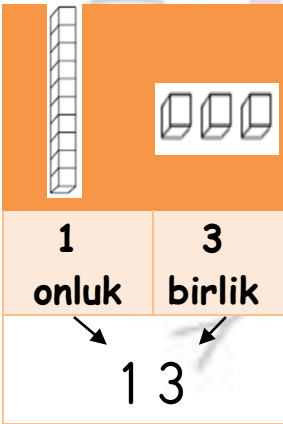
11	
Onluk	Birlik
1	1

24	
Onluk	Birlik

37	
Onluk	Birlik

40	
Onluk	Birlik

2) Verilen onlukların ve birliklerin kaç olduğunu yazınız.



3) Aşağıdaki sayı dizilerine boş kalan yerlere gelecek sayıları yazınız.

20, 21, _____, _____, 24, _____, _____, _____, 28, _____, 30.

10, _____, 30, _____, 50, _____, _____, 80, _____, 100.

5, 10, _____, 20, _____, _____, 35, _____, 45, _____.



4) Aşağıdaki sayıların okunuşunu yazınız.

34: **Otuz dört**

11:

50:

45:



5) Sadi 23 Nisan'da evini süslemek için aldığı bir deste balonu şişirdi. 3 tanesi patladı. Geriye kaç balonu kaldı?

İpucu : 1 deste 10 tane dir.



6) 2 onluk ve 3 birlik kaç eder?

7) 1-1 ritmik sayarak noktaları birleştirip, resmi boy.

